

**UEM**

**Vestibular  
de Inverno 2006**

## **Prova 3 – Geografia**

**QUESTÕES OBJETIVAS**

**QUESTÕES APLICADAS A TODOS OS  
CANDIDATOS QUE REALIZARAM A  
PROVA ESPECÍFICA DE GEOGRAFIA.**



UEM

Comissão Central do Vestibular Unificado

**GABARITO 3**

# GEOGRAFIA

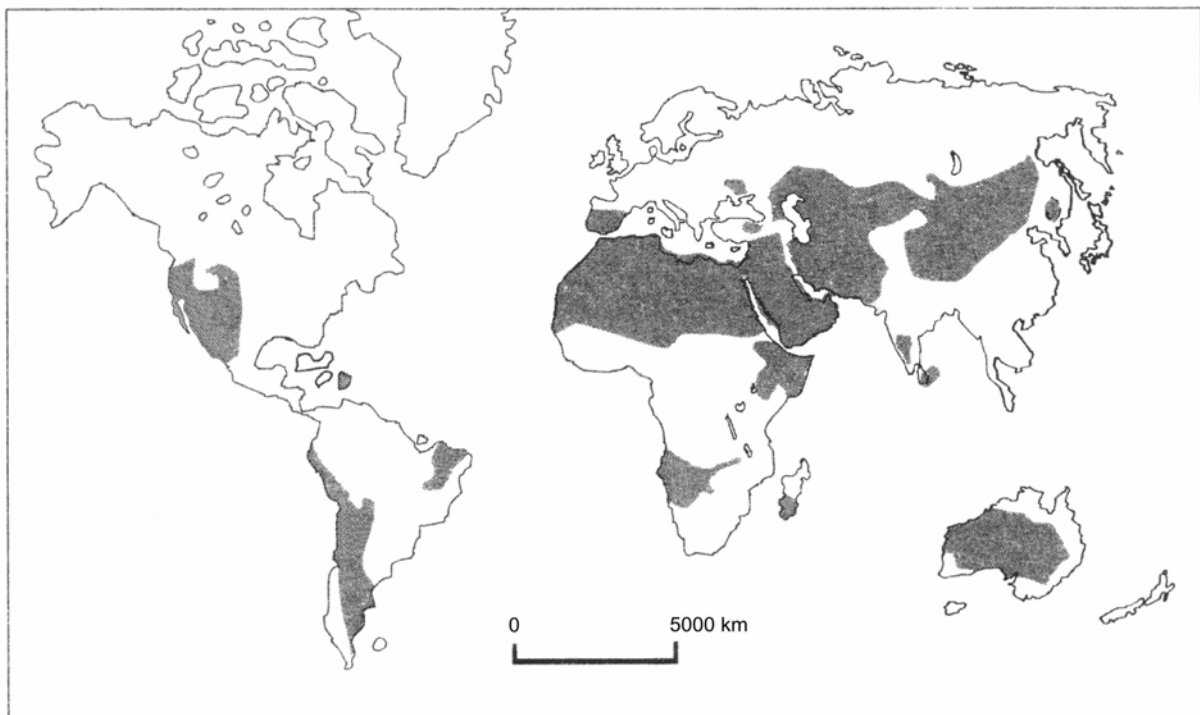
01 – Sobre as rochas que compõem a crosta terrestre, assinale a alternativa **correta**.

- A) As rochas sedimentares formaram-se pelo resfriamento e pela solidificação de minerais da crosta terrestre, isto é, o magma.
- B) As rochas metamórficas formaram-se a partir das transformações sofridas pelas rochas magmáticas e sedimentares quando submetidas ao calor e à pressão do interior da Terra.
- C) As rochas magmáticas formaram-se a partir da compactação de sedimentos de outras rochas.
- D) O arenito e o calcário são exemplos de rochas metamórficas.
- E) O gnaisse e o mármore são exemplos de rochas sedimentares.

02 – Assinale a alternativa **correta** sobre o planejamento do espaço urbano e do espaço rural.

- A) Os pólos tecnológicos ou tecnopólos são grandes centros de indústria pesada que se deslocaram para a zona rural, onde causam menos impacto ambiental.
- B) A desconcentração da atividade industrial na região metropolitana de Curitiba corresponde a um movimento das fábricas do centro para a periferia da cidade.
- C) Os "vazios" urbanos resultam da desativação de atividades primárias em áreas degradadas.
- D) O Plano Diretor de um município tem a função de regulamentar o uso e a ocupação do solo.
- E) A favelização atual das cidades brasileiras é consequência direta do êxodo rural e do tráfico de drogas.

03 – No mapa a seguir, as regiões sombreadas indicam



- A) as regiões mais industrializadas do globo.
- B) as regiões áridas e semi-áridas do globo.
- C) os domínios das florestas tropicais no globo.
- D) as regiões de intensa atividade agrícola.
- E) as regiões de ocorrência de conflitos bélicos nos últimos anos.

As duas questões a seguir se referem ao texto transcrito abaixo.

### Degelo na Groenlândia dobrou em 5 anos

Uma revolução silenciosa está acontecendo numa das ilhas mais gélidas e isoladas do planeta, alertou um grupo de pesquisadores ontem. Eles mediram o quanto as geleiras da Groenlândia despejaram no oceano entre 2000 e o ano passado, e viram que o fluxo praticamente dobrou entre uma data e outra. O fenômeno parece ter relação direta com o aumento de 3 graus C na temperatura da região e pode significar, no futuro, um aumento muito mais radical do nível dos oceanos da Terra do que o que se esperava.

Folha de S. Paulo, Folha Ciência, p. A-16, 17/02/2005.

04 – O fenômeno descrito no texto está associado

- A) à ocorrência de chuvas ácidas e às experiências com armas nucleares nessa ilha.
- B) à forte influência do fenômeno El Niño e de correntes marinhas na área.
- C) à intensificação do efeito estufa, causado, principalmente, pelo acréscimo de dióxido de carbono na atmosfera.
- D) a um novo período de glaciação que se aproxima.
- E) à ocorrência de tornados e furacões, cada vez mais frequentes na região da ilha.

05 – Sobre a localização, sobre os aspectos políticos e sobre os elementos que caracterizam a paisagem da Groenlândia, assinale a alternativa **correta**.

- A) Situada na região polar antártica, essa ilha pertence ao Chile.
- B) Em função das baixas temperaturas, a vegetação predominante é de florestas com árvores de grande porte.
- C) Adaptados ao meio natural, os esquimós ou *inuits* são os habitantes mais típicos da região.
- D) Seu principal produto de exportação é o açúcar extraído da beterraba.
- E) Os pingüins, aves que habitam as regiões mais frias do hemisfério norte, são abundantes na Groenlândia.

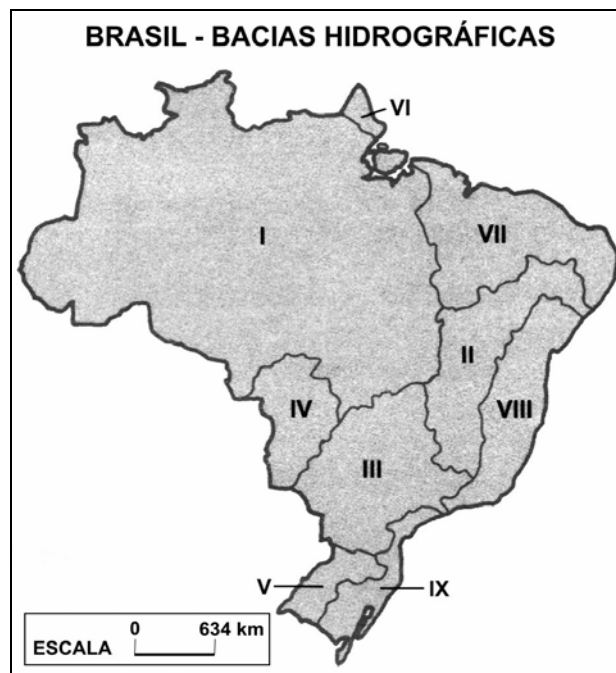
06 – Considerando as afirmações a seguir sobre as atividades econômicas no espaço rural do estado do Paraná, assinale a alternativa **correta**.

- I. Um dos fatores decisivos para o bom desempenho econômico do setor agrícola foi o fortalecimento do sistema de cooperativas, que também é responsável pelo crescimento da agroindústria.
- II. O Paraná ocupa lugar de destaque na agricultura nacional. As diferentes características físicas e climáticas do estado proporcionam a possibilidade da existência de atividades agrícolas diversificadas e a utilização de avançadas técnicas se traduz em altos índices de produtividade.
- III. Associada às lavouras de milho, a suinocultura difundiu-se no oeste e no sudoeste do Paraná, onde se encontram os rebanhos de melhor qualidade e os maiores índices de produtividade.

Está(ão) **correta(s)**

- A) apenas I.
- B) apenas II.
- C) apenas I e III.
- D) apenas II e III.
- E) I, II e III.

07 – O mapa a seguir apresenta as principais bacias hidrográficas brasileiras, individualizadas por algarismos romanos. Considerando o mapa, assinale a alternativa cujo algarismo romano indica a bacia hidrográfica com maior aproveitamento do potencial hidrelétrico no Brasil.



- A) VIII.
- B) I.
- C) II.
- D) VII.
- E) III.

08 – Assinale a alternativa **incorreta** sobre as redes de comunicações.

- A) As rodovias, as ferrovias e os gasodutos são exemplos de vias de circulação que podem formar redes.
- B) Os nós ou vértices são pontos de encontro de duas ou mais vias de comunicação ao longo de uma rede.
- C) Os fluxos correspondem ao deslocamento de pessoas, de bens ou de informações ao longo de uma via de comunicação.
- D) As redes de transporte podem ser elementos importantes de estruturação do espaço geográfico.
- E) As redes viárias correspondem às rotas aéreas que ligam os lugares centrais às periferias.

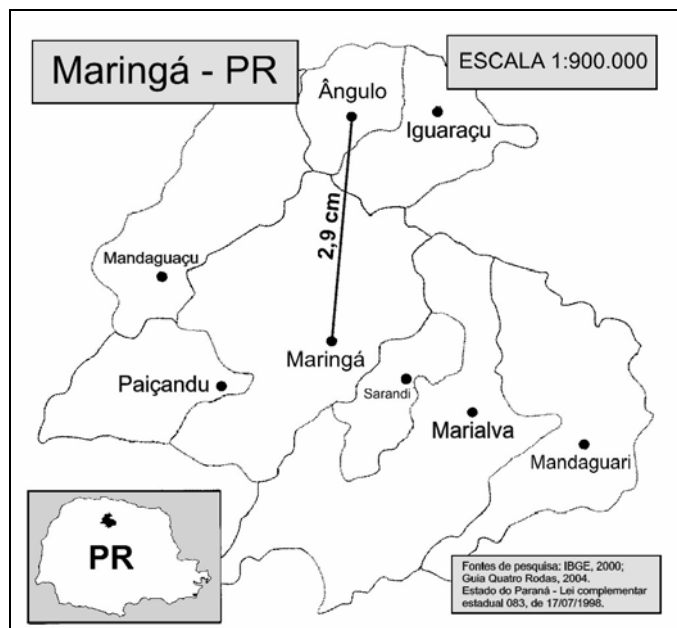
09 – Assinale a alternativa **correta** sobre a demografia.

- A) A taxa de crescimento vegetativo é calculada pela diferença entre a taxa de natalidade e a taxa de mortalidade em um período determinado.
- B) A taxa de mortalidade corresponde à somatória da taxa de mortalidade infantil e dos índices gerais de mortalidade de uma determinada população.
- C) A taxa de natalidade corresponde à somatória da taxa de fecundidade e da taxa de crescimento demográfico.
- D) Na segunda metade do século XX, a aceleração no ritmo de crescimento da população européia resultou do processo de urbanização associado ao êxodo rural.
- E) Malthus associou o crescimento demográfico da população à maior disponibilidade de alimentos, ressaltando que os recursos crescem exponencialmente e a população cresce aritmeticamente.

10 – Assinale a alternativa que corresponde a uma unidade de conservação no Paraná.

- A) As pradarias de Guarapuava.
- B) As várzeas do rio Ivaí.
- C) As matas-de-araucária da serra do Mar.
- D) Os cerrados de Campo Mourão.
- E) As florestas tropicais do Guartelá.

11 – Com base na ilustração, assinale a alternativa que indica a distância, em linha reta, entre Maringá e Ângulo.



- A) 26,1 km.
- B) 29 km.
- C) 18 km.
- D) 36,1 km.
- E) 25,1 km.

12 – Sobre a colonização européia na região Sul do Brasil e no Paraná, assinale a alternativa **correta**.

- A) A imigração européia e a imigração asiática foram a principal forma de ocupação do Oeste paranaense.
- B) A ocupação das zonas coloniais se fez com base, principalmente, na exploração do setor agropecuário em pequenas propriedades rurais.
- C) Castro e Palmeira foram, respectivamente, núcleos de colonização alemã e italiana.
- D) Os japoneses, em Assaí, destacaram-se pela produção de café, posteriormente substituído pelo cultivo do binômio milho/soja.
- E) Os eslavos destacaram-se pela implantação dos parques industriais de Blumenau, de Joinville e de Curitiba.

**13** – Assinale a alternativa **incorreta** a respeito do litoral do Paraná.

- A) A suinocultura é a principal atividade pecuária do litoral paranaense e está associada à imigração de origem alemã.
- B) As baías de Paranaguá e de Guaratuba correspondem a áreas do litoral nas quais ocorreu ingresso marinha e, conseqüentemente, formação de baías.
- C) As cidades de Morretes, Antonina e Paranaguá estiveram associadas ao ciclo do ouro, no contexto do estado do Paraná.
- D) As cidades de Antonina e Morretes estiveram associadas, por um período, à atividade de beneficiamento da erva-mate.
- E) Considerando-se a forma do território dos estados do Paraná e de Santa Catarina, observa-se que, ao contrário do litoral catarinense, que é bastante amplo, o território do Paraná estreita-se na sua face litorânea.

**14** – Sobre as características da região Sul do Brasil, assinale a alternativa **correta**.

- A) Sua efetiva ocupação iniciou-se no século XIX, com a chegada de imigrantes portugueses que, utilizando mão-de-obra escrava, dedicaram-se à cultura cafeeira.
- B) O principal parque industrial no estado do Paraná está localizado na região de Foz do Iguaçu, beneficiado pela energia da usina hidrelétrica de Itaipu.
- C) Em virtude da proximidade da região com todos os países do Pacto Andino, tem ocorrido, nos últimos anos, um maior desenvolvimento das atividades industriais.
- D) Única região brasileira situada totalmente em zona de clima tropical de altitude, destaca-se, na atualidade, como um grande exportador de cevada.
- E) O setor agropecuário está atrelado às indústrias alimentícias. No oeste de Santa Catarina, por exemplo, encontram-se grandes abatedouros e frigoríficos, como os grupos Sadia e Perdigão.

**15** – Sobre o rio Iguaçu e sua bacia hidrográfica, assinale a alternativa **correta**.

- A) O rio Iguaçu nasce no Segundo Planalto Paranaense.
- B) Devido às cachoeiras e aos pântanos, o rio Iguaçu não apresenta condições de navegabilidade em nenhum trecho do seu curso.
- C) A usina hidrelétrica de Itaipu represa as águas do rio Iguaçu junto à sua foz.
- D) A bacia hidrográfica do rio Iguaçu abrange terras do Paraguai e dos estados do Paraná e do Mato Grosso do Sul.
- E) O cultivo do fumo é uma atividade econômica presente no âmbito dessa bacia hidrográfica.