

U E M

VESTIBULAR

2001 de Verão

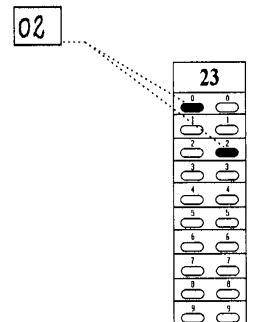
PROVA 1

GEOGRAFIA E HISTÓRIA

Nº DE INSCRIÇÃO: -

INSTRUÇÕES PARA A REALIZAÇÃO DA PROVA

1. Verifique se este caderno contém 30 questões e/ou qualquer tipo de defeito. Qualquer problema, avise, imediatamente, o fiscal.
2. Verifique se o número do gabarito deste caderno corresponde ao constante da etiqueta fixada em sua carteira. Se houver divergência, avise, imediatamente, o fiscal.
3. Sobre a folha de respostas.
 - Confira os seguintes dados: nome do candidato, número de inscrição, número da prova e o número do gabarito.
 - Assine no local apropriado.
 - Preencha-a, cuidadosamente, com caneta esferográfica azul escuro, escrita grossa (tipo Bic cristal), pois a mesma não será substituída em caso de erro ou rasura.
 - Para cada questão, preencha sempre dois alvéolos: um na coluna das dezenas e um na coluna das unidades, conforme exemplo ao lado: questão **23**, resposta **02**.
4. No tempo destinado a esta prova (4 horas), está incluído o de preenchimento da folha de respostas.
5. Transcreva as respostas somente na folha de respostas.
6. Ao término da prova, levante o braço e aguarde atendimento. Entregue este caderno, a folha de respostas e o caderno de Redação ao fiscal.



UEM

Comissão Central do Vestibular Unificado

GABARITO 1

GEOGRAFIA

01 – Sobre etnocentrismo e diferenças culturais, assinale o que for correto.

- 01) Etnocentrismo é a avaliação dos valores das demais culturas, tomando como parâmetro os valores de quem avalia.
- 02) Aceitar somente valores previamente estabelecidos é uma atitude preconceituosa.
- 04) Sempre haverá uma cultura superior que ditará os valores corretos.
- 08) As civilizações que se julgaram superiores, fechando-se às influências externas, acabaram decaindo.
- 16) A diversidade cultural é importante para a humanidade e deve ser preservada.
- 32) As diferenças culturais tendem a ser respeitadas, se estiverem de acordo com os valores da maioria étnica.

02 – A partir da década de 70 do século XX, a agricultura brasileira conhece um intenso e dinâmico processo de desenvolvimento de caráter empresarial ou capitalista, identificado com a industrialização no campo. Com relação a esse processo, assinale o que for correto.

- 01) Verificou-se um aumento do trabalho assalariado, mesmo que temporário – como no caso dos bóias-frias –, em detrimento do trabalho familiar, da parceria e do colonato.
- 02) Ocorreu uma significativa expansão das fronteiras agrícolas, envolvendo sobretudo as regiões Norte e Centro-Oeste do Brasil.
- 04) Verificou-se, com a intensificação da agro-industrialização, uma maior integração agricultura-indústria, com a subordinação da primeira à segunda.
- 08) Concorreu para intensificar a urbanização da população brasileira.
- 16) Aumentou, acentuadamente, a presença da carne bovina brasileira nos mercados norte-americano e europeu.
- 32) Houve uma expressiva expansão da área das culturas alimentares de consumo interno, identificadas com as lavouras de subsistência.

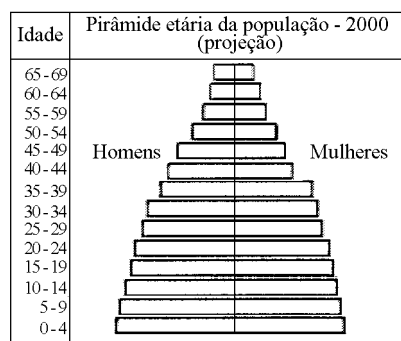
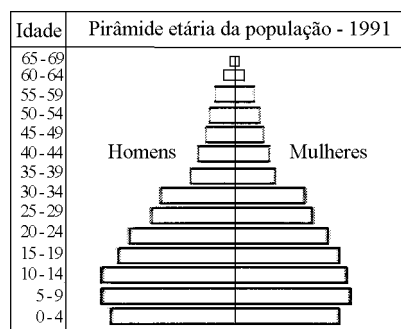
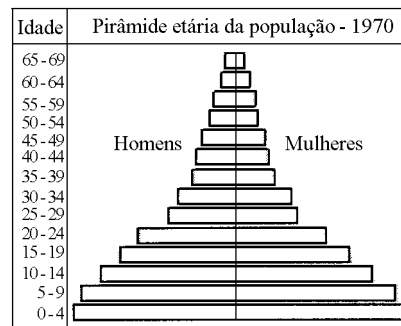
03 – Sobre a constituição geológica e o relevo, na região Sudeste do Brasil, assinale o que for correto.

- 01) Os planaltos paulistas formados por rochas sedimentares pouco resistentes, como o quartzito, criam a paisagem dos "mares de morros".
- 02) O relevo acidentado da serra do Mar está associado à ocorrência de falhamentos, responsáveis pela criação de escarpas e de vales profundos.
- 04) O vale do rio Paraíba do Sul corresponde a uma fossa tectônica localizada entre as serras do Mar e da Mantiqueira.
- 08) O Quadrilátero Ferrífero de Minas Gerais apresenta importantes reservas de ouro, ferro e manganês. É constituído principalmente por rochas sedimentares, sendo a serra do Espinhaço a unidade mais elevada.
- 16) Quando a serra do Mar aparece recuada em relação à costa, aparecem as planícies litorâneas. Essas planícies podem ser invadidas pelas águas do mar, pelo movimento das marés, criando áreas alagadas onde cresce a vegetação de manguezais.
- 32) Os terrenos da bacia do Paraná, que se estendem pelo oeste do estado de São Paulo, são formados por rochas vulcânicas, como o basalto, e por rochas sedimentares, como o arenito.

04 – Fala-se muito, atualmente, em mudanças climáticas globais e locais, decorrentes das atividades humanas. Sobre esse assunto, assinale o que for correto.

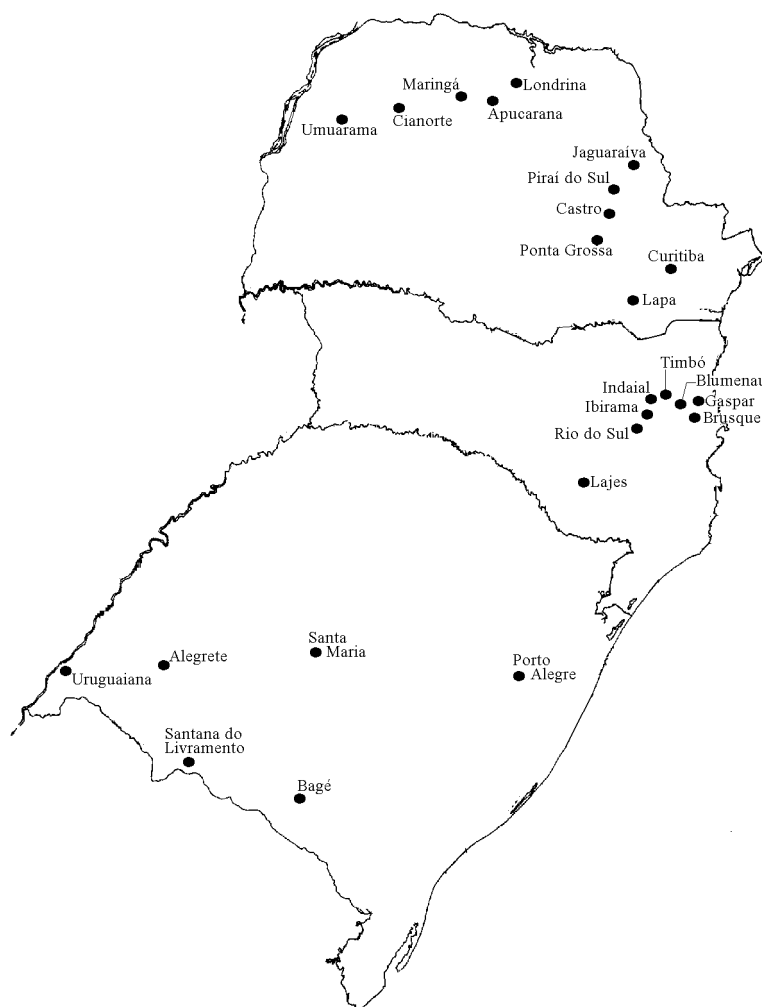
- 01) A expansão do Universo que se reflete, no caso da Terra, em um progressivo afastamento do Sol, resulta em um resfriamento crescente, que pode anular o aquecimento causado pela destruição da camada de ozônio.
- 02) O efeito estufa consiste na criação de uma atmosfera tóxica, nos grandes centros urbanos, com altos teores de monóxido de carbono gerado pela queima de combustíveis e pela decomposição do lixo a céu aberto.
- 04) A "ilha de calor" pode ocorrer, por exemplo, quando as temperaturas na área central da cidade apresentam-se mais elevadas, comparativamente às temperaturas das periferias urbanas ou da zona rural.
- 08) A geração de calor causada pela queima de combustíveis fósseis dos veículos e das atividades industriais ou domésticas, a falta de arborização e a elevada absorção e retenção da energia solar pelas superfícies de asfalto e de concreto, na cidade, são fatores que podem levar à formação da "ilha de calor".
- 16) A "inversão térmica" ocorre quando uma camada de ar mais frio e mais pesado permanece junto à superfície do solo, dificultando os movimentos de ascensão do ar, porque a camada de ar mais quente e leve está sobre essa camada de ar frio e denso. A situação de "inversão térmica" dificulta a dispersão dos poluentes atmosféricos, agravando os efeitos da poluição do ar, na cidade.
- 32) Quando a atmosfera poluída contém ácidos, estes podem juntar-se ao vapor d'água ou às gotas de chuva, precipitando-se sob a forma de "chuva ácida", às vezes em um lugar bem distante do local de origem dos poluentes. A "chuva ácida" pode alterar ecossistemas aquáticos, prejudicar florestas, plantações e rebanhos e até corroer monumentos, estátuas, paredes de edifícios e a lataria de veículos.

05 – A pirâmide de idade é um tipo de gráfico que expressa o número de habitantes e sua distribuição por sexo e idade. Com base na leitura comparativa das pirâmides a seguir, assinale o que for correto.



- 01) Comparativamente à pirâmide de 1970, em 1991 a população da faixa entre 50–54 anos permaneceu pequena, e houve aumento visível da população de 0 a 4 anos.
- 02) A estimativa para 2000 foi de que haveria diminuição considerável da população jovem de 0 a 9 anos e aumento da população de 50 a 59 anos.
- 04) Da análise das três pirâmides, conclui-se que a população brasileira apresenta tendência à estabilidade e ao envelhecimento.
- 08) A pirâmide de idade de 1970 era tipicamente a de um "país jovem". Já a projeção para o ano 2000 mostra o Brasil como um "país adulto", quanto ao número de pessoas em cada faixa etária.
- 16) A evolução da composição da população por idade e sexo, representada nos três gráficos, é prova da eficiência de uma política nacional de controle de natalidade.
- 32) Da leitura comparativa das pirâmides de idade de 1970 e de 2000, depreende-se que estaria havendo declínio da mortalidade e da natalidade.

06 – A respeito da formação das cidades na região Sul e da sua rede urbana, conforme aparece no mapa a seguir, assinale o que for correto.



- 01) No domínio dos Campos Gerais, a distribuição linear e com orientação basicamente longitudinal da rede urbana, abrangendo as cidades de Pirai do Sul, Castro, Ponta Grossa, Curitiba e Lapa, está associada ao ciclo da erva-mate.
- 02) No norte do Paraná, a distribuição espacial linear e com orientação basicamente latitudinal das principais cidades, como Londrina, Apucarana, Maringá, Cianorte e Umuarama, está relacionada ao período áureo do ciclo do café e à colonização planejada.
- 04) Na Campanha Gaúcha, a rede urbana apresenta um caráter disperso, rarefeito, com raros núcleos urbanos de grande porte, como Alegrete, Uruguaiiana, Santa Maria, Bagé, Santana do Livramento. Esse padrão de distribuição está associado, historicamente, à economia pastoril.
- 08) Na região do vale do Itajaí, a disposição linear e concentrada da rede urbana abrangendo as cidades de Gaspar, Blumenau, Brusque, Indaial, Timbó, Ibirama e Rio do Sul, situadas nos fundos de vales margeando o cursos dos rios, está relacionada à estrutura geomorfológica do relevo catarinense.
- 16) A presença de uma densa rede urbana nas regiões metropolitanas de Porto Alegre e de Curitiba está relacionada à importância das atividades industriais e terciárias.

07 – A disputa familiar pela guarda do menino cubano Elián, resgatado de um naufrágio na costa americana na condição de refugiado da ilha de Cuba, revelou uma disputa mais ampla, de cunho político, entre os governos dos Estados Unidos e de Cuba. Assinale o que for correto sobre os Estados Unidos e sobre os países das Antilhas.

- 01) A implantação do regime socialista em Cuba fez que os Estados Unidos rompessem relações diplomáticas com esse país, por ocasião da Revolução Cubana liderada por Fidel Castro, que, na ocasião, alinhou-se politicamente com a extinta União Soviética.
- 02) Com a desagregação do bloco socialista e o fim da União das Repúblicas Socialistas Soviéticas, os Estados Unidos romperam o antigo bloqueio econômico imposto a Cuba. Esta, por sua vez, abriu espaço para a instalação de empresas americanas em seu território. A disputa política em torno do capitalismo e do socialismo, porém, não desapareceu.
- 04) Cuba passou, na década de 90, por uma política de privatização de empresas estatais, acompanhada de uma abertura do mercado interno a empresas estrangeiras.
- 08) Assim como em outros países das Antilhas, como o Haiti, a Jamaica e a República Dominicana, os mulatos e negros predominam na composição étnica da população cubana.
- 16) Tanto em Cuba como em outros países antilhanos, a agricultura comercial é voltada para a produção de itens tropicais, como a cana-de-açúcar, o fumo e o cacau. As indústrias alimentícias e de transformação dos produtos de cultivo não se desenvolveram, sendo que a produção é quase integralmente exportada como bens primários.
- 32) O turismo é a principal atividade econômica nas Pequenas Antilhas e no Haiti, que viram, nas últimas décadas, as empresas hoteleiras locais crescerem, reforçando a nacionalização do capital. Em Cuba, porém, apesar da retirada do embargo americano, o turismo não consegue se desenvolver.
- 64) Nas ilhas Cayman, no Caribe, a legislação financeira liberal criou um paraíso fiscal. Depósitos bancários de capital originário do tráfico de drogas ou do desvio de verbas públicas governamentais são efetuados na conta de "empresas-fantasmas", protegidas pelo sigilo bancário.

08 – A Austrália e a Nova Zelândia são países da Oceania. Sobre essas duas nações, assinale o que for correto.

- 01) Ambas foram objeto da colonização britânica.
- 02) Essas nações não são classificadas como pertencentes economicamente ao Primeiro Mundo, por se localizarem no hemisfério Sul.
- 04) A Nova Zelândia fica ao Sul do Trópico de Capricórnio e, quanto mais se avança para o Sul, mais frio o clima se torna.
- 08) A Austrália possui uma grande diversidade de paisagens naturais, configuradas por desertos, estepes, savanas, florestas tropicais e subtropicais.
- 16) O trópico de Capricórnio passa pela região central da Austrália. Portanto, sua porção Norte situa-se na zona intertropical, e a porção Sul, na zona temperada do hemisfério Sul.

09 – No contexto da região Sul do Brasil, o estado do Paraná apresenta fontes naturais de energia hidráulica e mineral (carvão e xisto pirobetuminoso). Com respeito a essa realidade, assinale o que for correto.

- 01) O xisto pirobetuminoso encontra-se em fase de exploração comercial experimental em São Mateus do Sul.
- 02) Os depósitos de carvão mineral estão associados à presença dos terrenos cristalinos do planalto de Curitiba.
- 04) O potencial hidráulico dos principais rios no território paranaense está associado à presença dos derrames de lavas basálticas e ao volume anual das precipitações pluviométricas.
- 08) Atualmente, a extração comercial do xisto pirobetuminoso destina-se a fornecer matéria-prima à refinaria Presidente Vargas, em Araucária.
- 16) Tanto o xisto pirobetuminoso como o carvão mineral são combustíveis fósseis, cuja origem está associada à presença de vida orgânica, no passado.
- 32) O carvão mineral, na região Sul, é utilizado na produção de energia termoeétrica.

10 – Com base nas duas representações a seguir, assinale o que for correto.

Figura 1 - Projeção de Mercator (A)

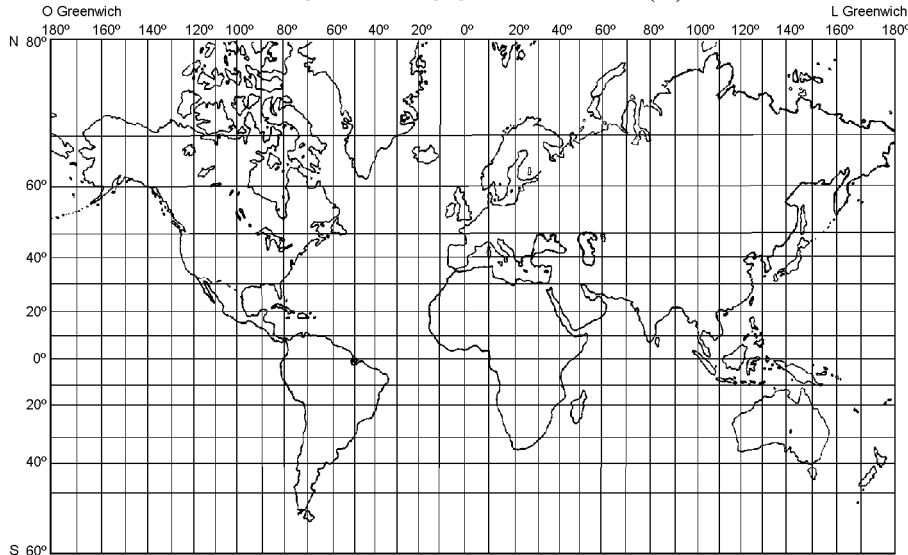
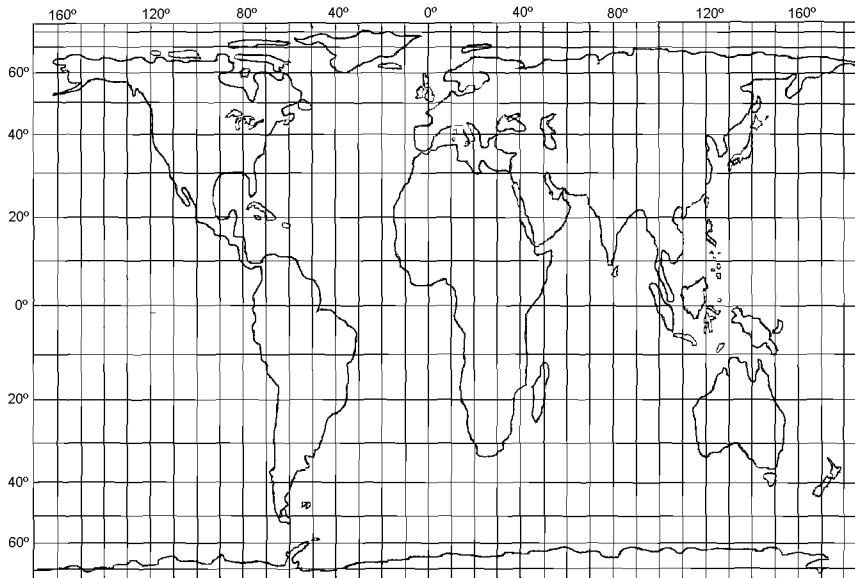


Figura 2 - Projeção de Peters (B)



- 01) A representação (A) é de projeção cilíndrica conforme, pois conserva a forma dos continentes, as direções e os ângulos.
- 02) A representação (B) é de projeção cilíndrica equivalente, pois não mantém as formas, as direções e os ângulos, mas preserva as áreas dos continentes.
- 04) A representação (B) foi elaborada por Peters e é a materialização eurocêntrica expressa no mapa.
- 08) A representação (A) coloca em evidência os países do hemisfério Sul, valorizando as nações do terceiro mundo.
- 16) As duas projeções (A) e (B) são cilíndricas e expressam a visão eurocêntrica, pois o centro das projeções é a Europa.
- 32) Na representação (A), os meridianos são traçados paralelamente e há exagero nas dimensões das áreas de latitude maior.

11 – Em relação à União Européia (UE), conhecida também como Comunidade Econômica Européia (CEE), assinale o que for correto.

- 01) O tratado de Maastricht, celebrado na década de 90, desencadeou várias fusões de empresas inglesas, francesas, italianas e alemãs, dentre outras.
- 02) Os produtos, pessoas, serviços e tecnologia circulam entre todos os países, sem restrições ou taxação alfandegária.
- 04) É uma comunidade que reúne consumidores de alto poder aquisitivo.
- 08) O conceito de "cidadão europeu" tem tendência a superar as cidadanias nacionais.
- 16) O Euro é a moeda única que circula desde a assinatura do tratado de Maastricht.
- 32) A sua origem está ligada à organização regional anterior, conhecida, no Brasil, por Mercado Comum Europeu, e que era composto, inicialmente, pelos seguintes países: Bélgica, Holanda, Luxemburgo, França, Alemanha e Itália.

12 – Brasil, México, África do Sul e Índia, dentre outros, são classificados, por vezes, como países subdesenvolvidos industrializados. Respeitadas as especificidades regionais, esses países apresentam, entre si, uma série de características sociais e econômicas comuns. Com relação a esses países, assinale o que for correto.

- 01) Dependência econômica e financeira dos países centrais industrializados.
- 02) Grandes desigualdades sociais e regionais.
- 04) Grandes diversidades étnicas, lingüísticas e religiosas.
- 08) Carência de recursos minerais, sobretudo energéticos.
- 16) Acentuada presença do capital internacional, representado por filiais de empresas com sede em países estrangeiros, abarcando os setores mais dinâmicos da economia.
- 32) O ramo industrial mais dinâmico é o petroquímico, face à presença de importantes jazidas de petróleo.
- 64) Intenso processo de urbanização, com tendência à concentração populacional nas regiões metropolitanas dos grandes centros urbanos.

13 – Assinale o que for correto sobre o pinheiro-do-paraná e sobre a área de domínio das matas de Araucária.

- 01) O domínio das matas de Araucária ocupava parte do planalto Meridional, abrangendo terras dos estados do Paraná, de Santa Catarina e do Rio Grande do Sul.
- 02) As matas de Araucária ocupavam, originalmente, tanto terrenos sedimentares da bacia do Paraná, como terrenos de origem vulcânica.
- 04) No estado do Paraná, as matas de Araucária estão melhor preservadas nos terrenos vulcânicos dos derrames de basalto dos campos Gerais, que apresentam solos mais férteis e menor ocupação agrícola, devido ao relevo acidentado.
- 08) A gralha-azul alimenta-se dos pinhões, enterrando grande quantidade dessas sementes, para se alimentar mais tarde. Como ela pode esquecer onde escondeu as sementes, algumas delas germinam e dão origem a novas árvores. Dessa forma, ela é responsável por boa parte da reprodução dos pinheirais.
- 16) No Rio Grande do Sul, os pinheiros-do-paraná ocorrem principalmente nos planaltos do Oeste, ao longo do rio Uruguai.
- 32) A erva-mate, cujas folhas são utilizadas no preparo do chimarrão, aparecia associada aos pinheiros-do-paraná, em muitas das matas de Araucária do sul do Brasil.
- 64) O clima ideal para o desenvolvimento do pinheiro-do-paraná é o subtropical seco, com invernos frios e verões quentes e secos.

14 – Assinale o que for correto sobre o Oriente Médio.

- 01) A atividade petrolífera na Arábia Saudita ocupa grande parte da população, empregada na extração do produto, nas grandes refinarias e nas indústrias petroquímicas e mecânicas. Como resultado, diminuíram drasticamente a pobreza e a desigualdade de renda, bem como o analfabetismo, principalmente da população feminina.
 - 02) Em Israel, a irrigação das culturas e a mecanização da lavoura permitem bons resultados agrícolas, apesar da hostilidade climática. Têm destaque as culturas de cereais, da vinha e de cítricos, dentre outras.
 - 04) As principais áreas produtoras de petróleo, no mundo, encontram-se no golfo Pérsico e no mar Vermelho. Em vista da importância do potencial petrolífero, os países árabes constituíram a OPEP – Organização dos Países Exportadores de Petróleo – com a finalidade de regular a produção e o preço internacional do barril, prejudicando os produtores americanos, como o México e a Venezuela.
 - 08) A Guerra do Golfo teve início quando o Iraque invadiu o Kuwait. A intervenção americana contra o Iraque foi fundamental para a derrota desse país.
 - 16) Durante a Guerra Fria, em décadas anteriores à Guerra do Golfo, um jogo de forças indicava que o Iraque alinhava-se com o bloco soviético, e que o Irã era apoiado pelos Estados Unidos.
 - 32) O Líbano, apesar de não apresentar dissidências étnicas e religiosas internas, tem tido uma história conturbada, por estar situado em uma zona de conflitos entre árabes, palestinos e israelenses.
 - 64) Os partidos fundamentalistas islâmicos propõem a interação entre os preceitos religiosos do Islã e os preceitos do Estado. Para eles, a modernidade imposta pelo Ocidente afasta o homem dos seus valores religiosos e da lei islâmica.
-

15 – O continente asiático acomoda mais de 50% da população mundial. Essa população apresenta-se irregularmente distribuída, contrapondo-se grandes aglomerações humanas a grandes vazios demográficos. Sobre essa realidade, assinale o que for correto.

- 01) No continente asiático, encontram-se os três países mais populosos do mundo: China, Índia e Japão.
- 02) Os grandes vazios demográficos localizam-se nos planaltos áridos da Ásia Central e nos arquipélagos úmidos do Extremo Oriente.
- 04) As maiores concentrações populacionais estão associadas aos vales fluviais úmidos no delta do rio Ganges–Bramaputra, em Bangladesh, e às planícies drenadas pelos rios Azul e Amarelo, na China.
- 08) A presença de elevados contingentes populacionais, na China e na Índia, está associada à ausência, na segunda metade do século XX, de políticas de controle populacional.
- 16) A ausência de elevadas densidades demográficas na Ásia Setentrional e na península Arábica está, em grande parte, associada aos rigores das condições climáticas.
- 32) As taxas de natalidade, nos países asiáticos de numerosa população absoluta, encontram-se em declínio devido à recente e crescente emancipação feminina apregoada pelas grandes religiões, como o hinduísmo e o islamismo.

HISTÓRIA

16 – Sobre a crise da sociedade feudal européia (séculos XIV e XV), assinale o que for correto.

- 01) Em determinadas áreas da Europa Ocidental, ocorre a transformação das relações servis em relações contratuais, que paralelamente coexistem com um recrudescimento da servidão em outras regiões.
- 02) Nesse período, houve uma decadência das atividades comerciais e uma regressão da vida urbana, sobretudo em razão das pressões da Igreja.
- 04) As revoltas urbanas e camponesas, as Jacqueries da França, vinculam-se à miséria que caracteriza a vida dos trabalhadores urbanos e dos camponeses naquele período.
- 08) Em seus aspectos políticos, a crise do feudalismo possibilita uma crescente centralização do poder monárquico e o conseqüente surgimento dos Estados Nacionais.
- 16) As inovações técnicas na guerra, a utilização de armas de fogo, exigem exércitos mais disciplinados e mais bem treinados que os dos cavaleiros medievais, e colocam em xeque a cavalaria, instituição da nobreza.

17 – Em meados do século XVIII, surgiu na Europa uma profunda crítica intelectual à sociedade do Antigo Regime, o Iluminismo. Sobre esse movimento intelectual, assinale o que for correto.

- 01) A *Enciclopédia*, editada por Diderot e D'Alembert, foi elaborada pelos iluministas como uma forma de difundir as novas idéias.
- 02) O Iluminismo surgiu do embate entre a Monarquia Constitucional e os defensores das liberdades sociais e expressou, entre outras questões, a luta por uma sociedade economicamente igualitária.
- 04) Dentre os principais pensadores iluministas destacam-se Montesquieu, autor de *O Espírito das Leis*, Voltaire, que ridicularizou o absolutismo, e Jean Jacques Rousseau, autor da obra *O Contrato Social*.
- 08) Foi um movimento exclusivamente francês, haja vista não terem existido pensadores iluministas na Inglaterra, na Itália e em outros países da Europa.
- 16) Dentre as principais idéias dos iluministas destacam-se a igualdade jurídica, a liberdade individual e a tolerância religiosa.

18 – A escravidão talvez tenha sido a mais longa "tradição" brasileira. Iniciada nos primórdios da colonização, somente foi abolida em 1888. Sobre o processo de abolição da escravidão no Brasil, assinale o que for correto.

- 01) Os negros não se submeteram à escravidão e reagiram em diversas ocasiões, demonstrando sua resistência ao mundo do cativo. A Revolta dos Malês, ocorrida na Bahia, em 1835, pode ser entendida como um dos episódios em que esses escravos reagiram contra a opressão.
- 02) Após abolir a escravidão em suas colônias (1833), a Inglaterra transformou-se em uma grande defensora do fim do tráfico negreiro e passou a pressionar o Brasil para que fizesse o mesmo.
- 04) A partir do século XVII grupos de intelectuais brasileiros passaram a pressionar o Governador Geral pelo fim da escravidão no mundo colonial.
- 08) A Lei do Ventre Livre de 1871 e a Lei dos Sexagenários de 1885, embora tenham libertado poucos escravos, foram importantes porque reconheciam o direito à liberdade dos cativos.
- 16) Nem todos os escravos partilhavam dos valores cristãos, dentre os quais os adeptos do islamismo, que se rebelaram contra a escravidão na primeira metade do século XIX, participando, dessa forma, do processo abolicionista.

19 – "Os selvagens, em troca de algumas roupas, camisas de linho, chapéus, facas, machados, cunhas de ferro e demais ferramentas trazidas por franceses e outros europeus, cortam, serram, e racham, atoram e desbastam o pau-brasil, transportando-o nos ombros nus às vezes de duas ou três léguas de distância, por montes e sítios escabrosos até a costa junto aos navios ancorados. Em verdade só cortam o pau-brasil depois que os franceses e portugueses começaram a freqüentar o país; anteriormente, como me foi dito por um ancião, derrubavam as árvores deitando-lhes fogo." (LÉRY, Jean de. **Viagem à terra do Brasil**. São Paulo: Martins fontes, 1972, p.24). O texto acima mostra os primórdios das relações estabelecidas entre brancos e índios no Brasil. Sobre tais relações, assinale o que for correto.

- 01) O texto mostra que a relação entre europeus e nativos percorreu um longo caminho até atingir, no século XIX, o respeito pela diversidade cultural que ainda hoje marca a relação entre brancos e índios.
- 02) A chegada do colonizador desenvolveu nos índios novas necessidades que, para serem satisfeitas, obrigavam os nativos a cortar e transportar o pau-brasil até os navios europeus.
- 04) A relação descrita no texto não eliminou o surgimento de outras formas de relação entre nativos e europeus. Dentre essas outras formas de relação, destaca-se a escravidão.
- 08) As relações estabelecidas entre os colonizadores e os índios no Brasil Colônia tiveram como base, em um primeiro momento, o escambo.
- 16) A extração de pau-brasil, com a utilização da mão-de-obra nativa, principal atividade econômica realizada no Brasil nas primeiras décadas após o descobrimento, não levou ao surgimento de núcleos habitacionais permanentes.

20 – O primeiro surto industrial brasileiro ocorreu a partir da última década do Império. Em grande parte, esse surto foi resultado da aplicação de lucros da produção e da comercialização do café, e da importação de mão-de-obra estrangeira. Sobre essa primeira fase da industrialização, assinale o que for correto.

- 01) A reforma tarifária Alves Branco encareceu os produtos importados e estimulou a indústria brasileira, pois os produtos nacionais passaram a concorrer com os produtos ingleses em igualdade de condições.
- 02) A produção do algodão, ocupando importância considerável no Brasil, facilitou o estabelecimento da indústria têxtil, uma das mais importantes naquele momento.
- 04) Os bancos estrangeiros passaram a investir seu capital diretamente no Brasil, desempenhando um papel cada vez maior no processo de implantação de indústrias.
- 08) A maior parte do capital investido (60%) foi orientado para a indústria do aço, favorecendo, assim, a implantação das ferrovias no país e acelerando a urbanização.
- 16) Apesar do incremento à rede ferroviária, a dependência do país em relação ao capital estrangeiro orientou a economia nacional de tal forma que o país acabou por priorizar o transporte rodoviário, atendendo, assim, aos ditames do comércio petrolífero.
- 32) Os empréstimos estrangeiros a setores públicos e privados favoreceram a urbanização e a industrialização, proporcionando a instalação do telégrafo, de redes de esgotos e de iluminação a gás.
- 64) Nessa primeira fase, a indústria brasileira destacou-se na América Latina, exportando produtos derivados do aço para Paraguai, Chile, Uruguai e Argentina, em uma demonstração de que o comércio no Cone Sul é bastante anterior ao Mercosul.

21 – A guerra de Independência de Biafra, ocorrida no período de 1967 a 1970, é um dos episódios mais dramáticos da África contemporânea e marca um conflito étnico que resultou na morte de mais de um milhão de pessoas, muitas minadas pela fome. Sobre esse episódio, assinale o que for correto.

- 01) Os ibo e os hausa são povos que formam a Nigéria, país onde se situa Biafra. Os ibo eram oriundos da província de Biafra e formavam a elite do país.
- 02) Essa guerra se insere no processo de descolonização da África e traduz os conflitos internos dos países, os choques entre a população nativa, os movimentos de independência nem sempre pacíficos.
- 04) A guerra durou 30 meses e os separatistas foram caçados e massacrados no país inteiro. Os que escaparam fugiram para sua província e tentaram declarar-se independentes.
- 08) A perspectiva de separação da província de Biafra, rica em petróleo, acirrou o conflito, pois o governo nigeriano não aceitava a proposta de separação de uma das regiões mais ricas do País.
- 16) Durante o desencadear da guerra, os separatistas conseguiram manter a resistência às tropas nigerianas e levar a província à independência, resultando no Estado de Biafra, um dos países que compõem o continente africano atual.
- 32) A guerra civil foi desencadeada a partir de um contra golpe do governo nigeriano para derrubar a etnia ibo, que havia tomado o poder na Nigéria.
- 64) Após a guerra de Biafra o país foi governado por militares, que conseguiram fazer uma administração pública com maior qualidade, saneando as finanças e tornando a Nigéria um dos países com maior índice de desenvolvimento na África atual.



22 – O liberalismo defende a não interferência do Estado na economia, que deve ser baseada no livre jogo das forças de mercado. Durante um certo período do século XX, verificou-se o fortalecimento do papel do Estado, interferindo de forma acentuada na economia. Nas últimas décadas, reagindo contra o fortalecimento do Estado, o liberalismo, agora denominado neo-liberalismo, voltou com força total. Sobre o neo-liberalismo, assinale o que for correto.

- 01) O neo-liberalismo apresenta-se como um projeto de reorganização para o desenvolvimento através da abertura do mercado e da internacionalização da economia.
- 02) O projeto neo-liberal em vigor foi sendo delineado em face às repetidas crises econômicas, e seus pontos básicos foram sistematizados no Consenso de Washington, em 1989.
- 04) O neo-liberalismo pressupõe a adoção de planos econômicos pelos países dependentes. Nas economias latino-americanas, esses planos se traduzem na renegociação da dívida externa, na privatização de empresas estatais, na reforma administrativa do Estado.
- 08) Na América Latina, a adoção de medidas de cunho neo-liberal tem acarretado custos sociais que atingem as camadas menos favorecidas da população. O desemprego é um dos grandes desafios enfrentados pelos governos.
- 16) Os países latino-americanos que, como a Argentina, mais rapidamente se adequaram às normas neo-liberais, conseguiram sanear suas economias e retomar o crescimento, demonstrando que o programa neo-liberal contribui para a desconcentração de renda.
- 32) Para proteger as economias nacionais e resistir à pressão econômica do neo-liberalismo, o Brasil, a Argentina e o Paraguai decidiram unir suas forças e criaram o Mercosul, formando, assim, um mercado comum para a importação e a exportação de produtos e de serviços.



23 – Sobre a colonização européia da América ao longo da época moderna, assinale o que for correto.

- 01) Somente no século XVIII, sob o reinado de Luís XIII, é que a ocupação da América pelos franceses assumiu um caráter mais decisivo, com a ocupação do Canadá, de algumas ilhas da América Central, e com a fundação da França Antártida no litoral da Argentina.
- 02) Os ingleses fundaram 13 colônias no litoral Atlântico da América do Norte. As colônias mais ao norte – a Nova Inglaterra – foram colonizadas tendo por base a grande produção agrícola e o trabalho escravo. A presença do negro na colonização daquela região dos Estados Unidos contribuiu para a compreensão da influência dos negros na cultura norte-americana, sobretudo na música *country*.
- 04) A ação dos holandeses foi caracterizada pela atuação das companhias de comércio, formadas por capitais privados. A Companhia das Índias Ocidentais, fundada em 1621, organizou a conquista e a colonização das possessões holandesas na América.
- 08) A mineração foi uma das atividades econômicas mais importantes desenvolvidas na América espanhola. Na mineração, a mão-de-obra predominante foi a indígena, a partir da mita – o trabalho compulsório.
- 16) A existência, em nossos dias, de países latino-americanos em que a população é predominantemente de origem indígena mostra que, ao contrário de Portugal, a Espanha sempre tratou com muito respeito as populações nativas das suas colônias americanas.



24 – Os movimentos populares e as lutas operárias no Brasil da virada do século até os anos 1930 contaram com a presença decisiva dos anarquistas. Na organização e liderança do movimento operário, a posição desse grupo foi sempre de destaque. Sobre o anarquismo, assinale o que for correto

- 01) As teses anarquistas eram, basicamente, a organização do operariado em sociedades de resistência ao capital, a luta permanente contra as arbitrariedades do Estado e dos patrões, a ação direta e coletiva contra o capital através da greve geral.
- 02) No Brasil, os anarquistas expressaram-se principalmente por meio da corrente anarco-sindicalista, que entendia o sindicato como meio e fim da ação libertária.
- 04) Com a fundação do Partido Comunista Brasileiro em 1922, os anarquistas começaram a perder espaço na liderança do movimento operário.
- 08) Os anarquistas chegaram ao Brasil em meados do século XIX e bastante cedo vieram ao Paraná, pois obtiveram autorização de D. Pedro II para fundar uma colônia nesse estado, a colônia Cecília.
- 16) Os anarquistas de origem italiana privilegiavam a ação sindical católica, afirmando a importância da democracia cristã para a condução dos interesses do Estado e dos cidadãos.
- 32) A filosofia anarquista era bastante democrática, insistindo na importância da participação do eleitor nas definições dos cargos públicos, lutando pelo reconhecimento do anarquismo como um partido político.
- 64) Os anarquistas estiveram à frente das grandes batalhas travadas pela classe operária no período de 1917 a 1920 e, pelo menos até 1935, ocuparam espaço no movimento operário brasileiro.



25 – Durante o século XVII, ocorreram na Inglaterra vários movimentos revolucionários (Revolução Puritana, Revolução Gloriosa e o Protetorado de Cromwell). O conjunto desses movimentos é normalmente chamado pela historiografia de Revolução Inglesa (1640–1689). Sobre essa revolução, assinale o que for correto.

- 01) Em 1651, Oliver Cromwell decretou o "Ato de Navegação", através do qual buscava o fortalecimento da marinha e do comércio da Inglaterra.
- 02) A Revolução Gloriosa (1688) eliminou o absolutismo da história inglesa e instaurou a Monarquia Parlamentar, dominada, a partir de então, pelos interesses e pela ação da burguesia.
- 04) A vitória dos "cabeças redondas", isto é, da burguesia, sobre Carlos I, em 1645, significou o estabelecimento da democracia na Inglaterra, com a transferência imediata do poder político ao Parlamento, através do Primeiro Ministro.
- 08) A Declaração dos Direitos, assinada em 1688, significou uma reação de Guilherme de Orange – Rei da Inglaterra – ao crescente aumento de poder do Parlamento e instituiu na Inglaterra o Despotismo Esclarecido.
- 16) Em linhas gerais, pode-se afirmar que as revoluções inglesas do século XVII expressaram, entre outras questões, a disputa pelo poder entre os reis da dinastia Stuart e o Parlamento inglês.



26 – No período que compreende o Segundo Governo de Getúlio Vargas e o Golpe de 1964, várias organizações populares – de estudantes, de camponeses, de operários e outros – mobilizaram-se pedindo reformas de base, objetivando superar uma ordem social considerada injusta. As Ligas Camponesas surgiram nesse contexto. Sobre essas Ligas, assinale o que for correto.

- 01) Os trabalhadores rurais intensificaram sua organização sob a influência da Igreja Católica e dos partidos comunistas e socialistas. Enquanto a Igreja Católica priorizava a formação de sindicatos, os comunistas e os socialistas empenhavam-se no apoio às Ligas Camponesas.
- 02) As Ligas originaram-se da união das famílias camponesas que receberam terra para a exploração em troca de um aluguel anual, o foro. Até o início dos anos 1950, as Ligas Camponesas reuniam apenas foreiros e lutavam para sua permanência na terra, para que o foro fosse mais baixo, por créditos oficiais e por benefícios sociais.
- 04) Durante o governo de Vargas, as Ligas conseguiram a criação do FUNRURAL, e o Estado passou a garantir a aposentadoria a todos os trabalhadores rurais, independente de comprovação do tempo de serviço.
- 08) Com o golpe de 1964, as Ligas foram perseguidas e fechadas, e seus líderes foram presos ou exilados.
- 16) No Primeiro Congresso de Trabalhadores Rurais, em Belo Horizonte, em 1961, as Ligas Camponesas deixaram claras suas reivindicações, exigindo a reforma agrária "na lei ou na marra".
- 32) A luta pela reforma no campo brasileiro contou, nesse período, com o apoio dos parlamentares ligados à União Democrática Ruralista. Todavia, o poder desse grupo foi insuficiente para pressionar o governo a assinar a desapropriação das terras improdutivas.
- 64) A reivindicação de reforma agrária, naquele momento, consistia na luta pela distribuição das terras improdutivas em poder dos grandes proprietários para uma massa de trabalhadores rurais que não dispunha de área para produzir.



27 – O início dos tempos modernos é marcado por uma série de transformações, dentre as quais o Renascimento, no campo intelectual. Sobre este assunto, assinale o que for correto.

- 01) A literatura renascentista valorizava a Igreja, a nobreza e sobretudo o ideal da cavalaria. Essa valorização pode ser observada na obra literária *Don Quixote de La Mancha*.
- 02) O Renascimento, movimento cultural ligado ao passado, é também produto das condições históricas do final do feudalismo. O grande desenvolvimento econômico das cidades da Itália até o final do século XVII possibilitou o mecenato e contribuiu para explicar o fato de o Renascimento ter sido um fenômeno exclusivamente italiano.
- 04) A ciência renascentista questionou a tradição como forma de obtenção do conhecimento científico. Assim sendo, procurou explicar o mundo a partir de novas teorias, fugindo às interpretações místicas, típicas do período histórico anterior.
- 08) Em seus aspectos artísticos, o Renascimento foi caracterizado por uma preocupação com a figura humana. Essa preocupação possibilitou a valorização do nu e a busca da perfeição ao retratar os homens, conduziu a uma aproximação entre a arte e a ciência e contribuiu para o desenvolvimento de estudos de anatomia e de novas técnicas de produção de cores e de perspectiva.
- 16) A oposição à mentalidade predominante no período medieval levou os renascentistas à redescoberta da Antiguidade Clássica.

28 – O processo histórico que levou à II Guerra Mundial comporta vários motivos que explicam o emergir de um novo conflito pouco tempo depois de encerrada a Primeira Grande Guerra, dentre os quais estão as aspirações expansionistas de alguns países. Sobre a posição do Japão nesse conflito, assinale o que for correto.

- 01) Os japoneses iniciaram a expansão imperialista no começo do século XIX, quando invadiram a China, na Guerra do Ópio, conquistando Xangai e Nanquim.
- 02) O Japão, a partir de 1931, sob a direção do Imperador Hiroito, decidiu impor sua hegemonia sobre a Ásia e, aproveitando a debilidade da China, que enfrentava uma guerra civil entre comunistas e nacionalistas, as tropas japonesas ocuparam a Manchúria.
- 04) Os norte-americanos romperam os acordos comerciais que mantinham com o Japão, bloquearam o fornecimento de petróleo e congelaram os créditos japoneses nos Estados Unidos. Com essa atitude, conseguiram que o Japão recuasse, desocupando regiões da Indochina e da Indonésia.
- 08) O exército japonês era ligado às sociedades secretas ultranacionalistas, defensoras da ditadura.
- 16) O ataque japonês à base norte-americana de Pearl Harbor, no Havaí, em dezembro de 1941, provocou a entrada dos Estados Unidos na Segunda Guerra Mundial.
- 32) Em julho de 1941, com o apoio da Alemanha, o Japão conseguiu que o governo de Vichy permitisse a presença de tropas japonesas na Indochina. Seu objetivo era formar um grande império asiático, conquistando regiões ricas em matéria-prima, sobretudo petróleo e borracha.

29 – O nazismo e o fascismo europeus repercutiram positivamente em várias partes do mundo, onde eram vistos como regimes "dinâmicos", melhores do que as democracias, vistas como "decadentes". A Ação Integralista Brasileira (AIB), incorporando as idéias e a ação política do nazismo alemão e do fascismo italiano, teve grande penetração no Brasil dos anos 1930. Sobre o Integralismo, assinale o que for correto.

- 01) A AIB foi fundada por Plínio Salgado e tinha como objetivo, dentre outros, o combate ao comunismo e a organização de um Estado forte, baseado nas corporações profissionais.
- 02) Os integralistas pregavam a eugenia da raça brasileira, por meio da prática do atletismo, da ginástica, dos esportes.
- 04) Os integralistas conseguiram o prestígio no governo de Vargas por terem sido sempre os campeões da delação sistemática e da caça aos comunistas.
- 08) Até o início da década de 1940, as simpatias de Vargas dirigiam-se ao bloco fascista europeu. Em face disso, a AIB conseguiu permanecer como partido político, mesmo após a implantação do Estado Novo.
- 16) Após o golpe de 1937, os integralistas tornaram-se incômodos ao governo ditatorial de Getúlio Vargas e passaram a ser perseguidos. Os mais radicais conseguiram a aprovação de oficiais da Marinha e de diversas forças públicas para um confronto armado contra o governo e passaram a desencadear uma série de atos contrários a Getúlio Vargas.
- 32) O Integralismo conseguiu manter distância da repressão do Estado, lutando pela democracia, através de seu partido, a AIB.

30 – Sobre a atuação da Igreja durante o período colonial da história do Brasil, assinale o que for correto.

- 01) O padroado, ou seja, o direito de receber os dízimos devidos à Igreja, a obrigação de pagar os salários e nomear os prelados, havia sido concedido pelo Papa aos reis de Portugal. Essa concessão tornava o rei o patrono das missões e demais instituições da Igreja e estabelecia uma estreita vinculação entre o poder espiritual e o poder secular no Brasil colonial.
- 02) Embora os portugueses tenham realizado as "grandes navegações" em busca de riquezas, o ideal da cruzada também estava presente nos homens que cruzavam o Oceano. Assim sendo, a expansão da fé caminhava junto com a busca de riquezas.
- 04) Os primeiros jesuítas, membros da principal ordem religiosa que participou da colonização, chegaram ao Brasil já no século XVI (1549), junto com o Governador Geral.
- 08) Os interesses dos jesuítas que organizaram as missões se chocavam com as pretensões dos colonizadores europeus. As disputas entre jesuítas e colonos pelo controle dos índios "pacificados" se estenderam até a expulsão dos membros da Companhia de Jesus dos territórios portugueses em 1759.
- 16) Além da conversão e do pastoreio das almas, a Igreja realizava o registro civil e era responsável por momentos de diversão da população, pois a vida social da Colônia girava em torno das festividades religiosas.