

 UNIVERSIDADE ESTADUAL DE MARINGÁ
Vestibular
Especial
de verão 2000

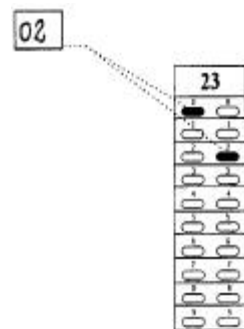
Prova 1

GEOGRAFIA E HISTÓRIA

Nº DE INSCRIÇÃO: -

INSTRUÇÕES PARA A REALIZAÇÃO DA PROVA

1. Verifique se este caderno contém 30 questões e/ou qualquer tipo de defeito. Qualquer problema, avise, imediatamente, o fiscal.
2. Verifique se o número do gabarito deste caderno corresponde ao constante da etiqueta fixada em sua carteira. Se houver divergência, avise, imediatamente, o fiscal.
3. Sobre a folha de respostas.
 - Confira os seguintes dados: nome do candidato, número de inscrição, número da prova e o número do gabarito.
 - Assine no local apropriado.
 - Preencha-a, cuidadosamente, com caneta esferográfica azul escuro, escrita grossa (tipo Bic cristal), pois a mesma não será substituída em caso de erro ou rasura.
 - Para cada questão, preencha sempre dois alvéolos: um na coluna das dezenas e um na coluna das unidades, conforme exemplo ao lado: questão **23**, resposta **02**.
4. No tempo destinado a esta prova (4 horas), está incluído o de preenchimento da folha de respostas.
5. Transcreva as respostas somente na folha de respostas.
6. Ao término da prova, levante o braço e aguarde atendimento. Entregue este caderno, a folha de respostas e o caderno de Redação ao fiscal.



UEM

Comissão Central do Vestibular Unificado

GABARITO 1

GEOGRAFIA

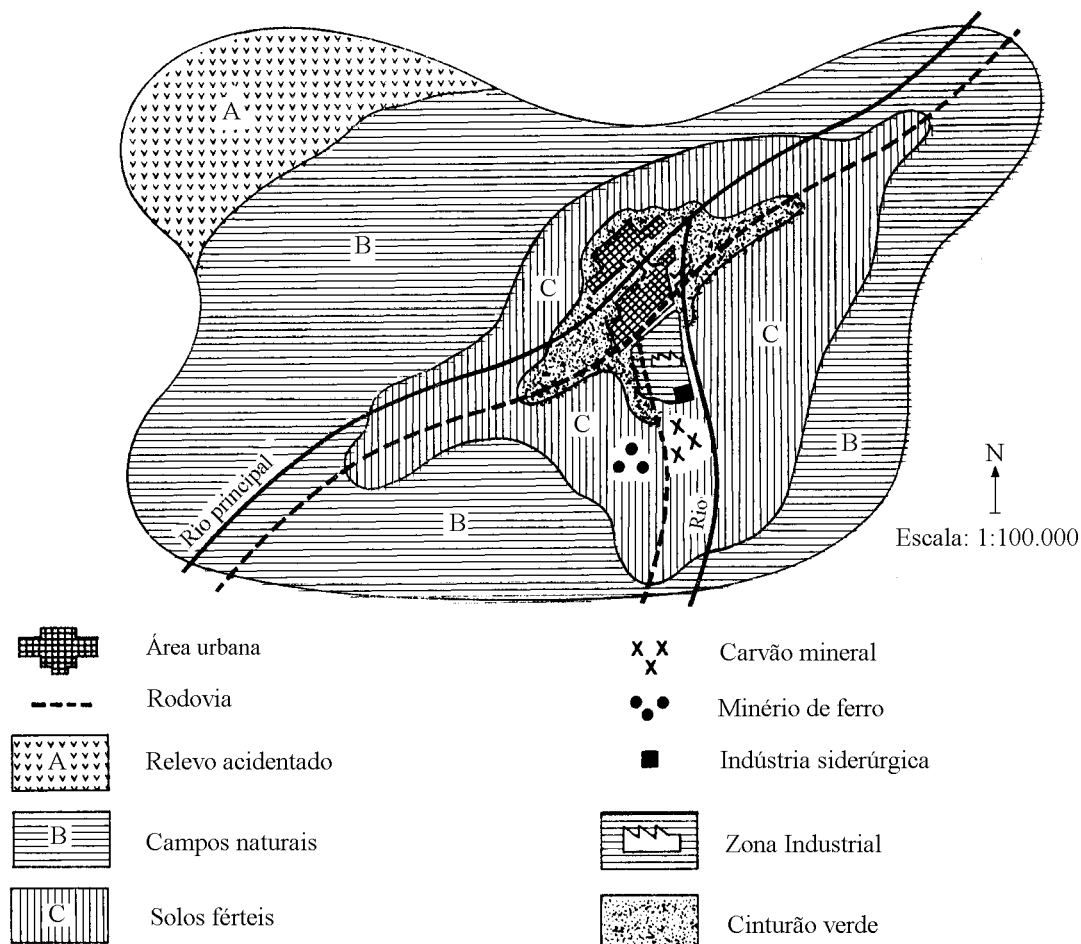
01 – Assinale o que for correto sobre a distribuição das fontes de recursos da Terra e a sua exploração.

- 01) A possibilidade de esgotamento das fontes tradicionais de energia, como o petróleo e o carvão mineral, tem estimulado a pesquisa sobre fontes alternativas, tais como a energia solar, a energia das marés e a energia da biomassa vegetal, dentre outras.
- 02) A presença de grandes reservas de petróleo foi importante no processo de industrialização da Europa e da América do Norte, no século XIX. Inglaterra, Alemanha, Estados Unidos e México, os principais países produtores de petróleo, na época, destacaram-se nas atividades ligadas à refinação, à siderurgia e à mecânica pesada.
- 04) A obtenção de energia hidráulica é uma opção para os países que apresentam rios caudalosos e que atravessam, preferencialmente, extensos planaltos ou planícies de inundação. No Brasil, a bacia do Paraná e a bacia Amazônica favorecem a instalação de barragens, criando reservatórios de grande profundidade e com uma área de inundação pouco extensa.
- 08) Na zona costeira das regiões continentais quentes, as águas do mar apresentam menor teor de oxigênio do que as águas que banham a zona costeira das regiões frias. A primeira área, portanto, costuma apresentar-se mais pobre em pesca do que a segunda, porque as águas frias favorecem, devido à sua maior oxigenação, uma atividade biológica mais intensa.
- 16) A pesca como atividade econômica passou por um processo de modernização que inclui a utilização de mão-de-obra especializada e o uso de embarcações e de equipamentos destinados à industrialização do produto. O Japão é um exemplo de país que explora a pesca com tecnologias avançadas.
- 32) As florestas equatoriais e tropicais, as mais ricas em variedade de espécies, têm sido objeto de investigação e exploração internacionais com vistas apenas à sua preservação, como bens intocáveis, para o benefício do ecossistema global.
- 64) As políticas mais atuais de gestão do planeta Terra para a qualidade de vida evidenciam uma tendência no sentido de promover um novo tipo de desenvolvimento, menos devastador, utilizando-se, por exemplo, da biotecnologia.

02 – Assinale o que for correto sobre as etnias e os fatores culturais, no mundo atual.

- 01) A Índia apresentava, devido à existência de povos de diferentes origens e tradições culturais, graves problemas de ordem étnica e religiosa. Após a independência, ocorrida na década de 60, muçulmanos e hindus passaram a ocupar territórios definidos, pondo fim às dissidências religiosas.
- 02) Certas características essenciais da cultura ocidental opõem-se ao barbarismo oriental. O respeito aos idosos e a valorização da sua experiência de vida, a convicção de que o homem só se realiza em função de sua utilidade à sociedade e não através da exaltação do ego ou das vantagens individuais auferidas são traços marcantes da modernidade ocidental norte-americana e que influenciam a cultura brasileira.
- 04) A partilha da Iugoslávia, na atualidade, é um exemplo de que a união de diferentes nacionalidades ou etnias numa “colcha de retalhos” pode manter-se unida sob governos autoritários, mas tende à fragmentação na ausência de um regime de força.
- 08) No Brasil, a questão religiosa e a música dividem as etnias. Enquanto afro-brasileiros praticam a religião espírita e cantam o “axé-music”, os católicos envolvem-se em conflitos que opõem os carismáticos do Padre Marcelo aos cristãos progressistas do Padre Zezinho.
- 16) A indústria cultural, envolvendo televisão, cinema, jornais, revistas, rádio e publicidade contribui para a padronização de hábitos alimentares, modos de vestir, preferências musicais, formas de lazer e outras manifestações culturais. Essa pretendida mundialização dos costumes, tornando-os uniformes para muitos povos, atende aos interesses de empresas multinacionais, produtoras de bens de consumo.
- 32) O etnocentrismo tem por base a valorização de uma cultura particular, de um povo que julga as demais culturas segundo um ponto de vista próprio, considerando-as inferiores ou erradas, em seus princípios.

03 – Analise a figura sob o ponto de vista da organização do espaço geográfico, assinalando a(s) alternativa(s) que interpreta(m) corretamente o mapa.



- 01) O rio principal corre de sudoeste para nordeste, sendo que o afluente desemboca junto à sua margem direita, a jusante da ponte.
- 02) A área urbana é dividida em dois setores por meio de um interflúvio.
- 04) Considerando-se todo o território representado no mapa, a área urbana ocupa a zona de maiores altitudes.
- 08) A região A é a mais adequada para o desenvolvimento da pecuária bovina, de criação de gado de corte.
- 16) Dentre as zonas A, B e C, a que melhor se presta para o monocultivo mecanizado da soja, fornecendo matéria-prima para as indústrias de óleo da cidade, é aquela indicada pela letra C, que apresenta solos férteis, extensão compatível para um cultivo mecanizado e proximidade do centro de comercialização do produto.
- 32) A zona mais adequada à produção de hortifrutigranjeiros é aquela indicada pela letra B, constituindo um cinturão verde próximo à área urbana.
- 64) A escala numérica indica que cada centímetro no mapa corresponde a um quilômetro no terreno.

04 – Assinale o que for correto sobre a atividade comercial no Brasil e no mundo.

- 01) No período colonial, o Brasil fornecia matérias-primas a Portugal e, através de um pacto colonial, consumia os produtos vindos da metrópole. A colônia não tinha autonomia na organização das suas transações comerciais.
- 02) Com a Revolução Industrial do século XIX, os países europeus empreenderam uma nova onda de expansão e dominação, constituindo-se o imperialismo colonial, bem evidenciado nas possessões européias situadas na África e na Ásia. O objetivo principal era a obtenção de matérias-primas abundantes e baratas.
- 04) O livre-cambismo propõe a eliminação de barreiras ao comércio entre as nações. Favorece, sobretudo, os países que têm uma produção industrial mais competitiva, seja em termos de qualidade, seja quanto ao custo de fabricação dos produtos. O neo-liberalismo retoma princípios do livre-cambismo.
- 08) O protecionismo comercial estatal, que é regulado pelo governo do próprio país, propõe a criação de barreiras alfandegárias na comercialização dos produtos estrangeiros como forma de proteger a indústria nacional, garantindo mercado interno para os seus produtos.
- 16) Os tratados como o MERCOSUL, o antigo Mercado Comum Europeu, a OTAN e tantos outros, firmados entre grupos de países, foram calcados nos princípios do protecionismo estatal e criaram conflitos entre as nações que os compunham. O neo-liberalismo surgiu como solução para o problema, eliminando os conflitos mundiais na área do comércio, como ficou atestado no sucesso da última reunião internacional realizada em Seattle, nos Estados Unidos.
- 32) O Euro, a moeda comum de circulação entre países da União Européia, tem por objetivo principal melhorar a circulação de pessoas e mercadorias entre o Sul mais pobre e o Norte desenvolvido.

05 – Assinale o que for correto sobre a questão urbana no Brasil, recorrendo à tabela, quando solicitado.

BRASIL: TAXA DE URBANIZAÇÃO POR REGIÕES (%)

Região	População urbana em 1950	População urbana em 1970	População urbana em 1995
Sudeste	44,5	72,7	88,3
Sul	29,5	44,3	77,3
Nordeste	26,4	41,8	63,0
Centro-Oeste	24,4	48,0	81,3
Norte	31,5	45,1	–
Brasil	36,2	55,9	79,9

(Anuário Estatístico do Brasil, 1994/PNAD, 1995)

- 01) As regiões metropolitanas de São Paulo e Rio de Janeiro constituem, no seu conjunto, um eixo de significativa produção e circulação de mercadorias, idéias, pessoas e capital.
- 02) As regiões metropolitanas englobam um conjunto de municípios contíguos e integrados sócio-economicamente, tendo uma ou mais cidades centralizadoras das atividades. Nas regiões metropolitanas, os municípios podem apresentar serviços públicos e infra-estrutura urbana em comum.
- 04) A multiplicação ou a ampliação das favelas, a insuficiência de transporte coletivo urbano e a deficiência de saneamento básico são problemas encontrados nas grandes cidades brasileiras.
- 08) O processo de urbanização brasileiro não foi uma decorrência direta da industrialização do País, mas sim do êxodo rural. Como a economia urbano-industrial não absorveu toda a mão-de-obra que afluiu à cidade, houve uma multiplicação das formas de subemprego, com um setor terciário hipertrofiado.
- 16) Observando-se a tabela acima, conclui-se que apenas as regiões Sul e Sudeste registraram porcentagens de população urbana superior à média brasileira em 1995.
- 32) Observando a tabela acima, conclui-se que, em 1950, o Centro-Oeste era a região com menor taxa de urbanização. Vinte anos depois, era a segunda região mais urbanizada do Brasil.

06 – Assinale o que for correto sobre a questão ambiental.

- 01) O termo "biodiversidade" diz respeito à variedade de espécies de plantas, de animais e de uma infinidade de microorganismos que compõem os ecossistemas da Terra. A floresta Amazônica é um exemplo de formação vegetal biodiversa.
- 02) O sistema capitalista prioriza o lucro, tendo um compromisso apenas parcial para com a conservação da natureza. Dessa forma, a natureza é vista como uma fonte de recursos que podem gerar capital, sendo os riscos ambientais avaliados principalmente segundo uma lógica financeira, traduzida pelo princípio do custo/benefício.
- 04) A poluição atmosférica pode criar, sobre os centros urbanos, uma espécie de névoa composta por fumaça e vapor d'água denominada "smog".
- 08) O processo de desertificação climática consiste em uma diminuição progressiva nos índices de umidade e conseqüente empobrecimento dos solos, que se tornam inviáveis para a agricultura. No Brasil, essa desertificação climática ocorre na região Nordeste e no Rio Grande do Sul, onde surgem areiais.
- 16) Os fenômenos "El Niño" e "La Niña" são, respectivamente, produtos do resfriamento e do aquecimento anormal das águas do Pacífico, como decorrência do efeito estufa e da ilha de calor.
- 32) O uso excessivo de adubos químicos provoca danos ao ambiente principalmente nos períodos chuvosos. Esses produtos são levados pelas águas pluviais até os rios ou até o lençol freático, comprometendo a qualidade das águas superficiais e subterrâneas.

07 – Assinale o que for correto sobre as migrações internas, no Brasil.

- 01) O ciclo da borracha, iniciado no século XIX e encerrado no início do século XX, na Amazônia, atraiu muitos migrantes provenientes do Nordeste do Brasil.
- 02) O ciclo do café, com destaque nos estados de São Paulo e Paraná, atraiu migrantes provenientes de zonas de evasão populacional no próprio país, além de imigrantes europeus.
- 04) A partir dos anos 70, os projetos de colonização desenvolvidos pelo governo brasileiro nas regiões Norte e Centro-Oeste atraíram muitos migrantes do Nordeste, do Sul e também do Sudeste. A construção de hidrelétricas, os garimpos e mesmo os projetos de ocupação agrária foram atividades que exerceram forte atração populacional para as novas fronteiras de ocupação.
- 08) A mecanização agrícola, o predomínio dos cultivos de subsistência, de baixo valor de mercado, e o processo de concentração de terras, com progressivo aumento no número dos minifúndios e das pequenas propriedades, são fatores que explicam o êxodo rural no Brasil.
- 16) A recente onda de industrialização no eixo Cuiabá-Rio Branco, abrangendo a zona de colonização agrária do Pantanal, vem atraindo, sobretudo, contingentes populacionais das zonas estagnadas do Sudeste e do Sul, como o vale do Ribeira e o nordeste do Rio Grande do Sul.
- 32) O êxodo urbano é uma tendência atual, resultante do desemprego presente nas grandes metrópoles brasileiras. Nos estados de São Paulo e Paraná, por exemplo, o esvaziamento das capitais contrapõe-se ao crescimento da população rural nos municípios do interior. No Paraná, essa tendência é fruto, também, de uma política de descentralização das atividades na região metropolitana de Curitiba.

08 – Assinale a(s) alternativa(s) correta(s) a respeito da evolução da Terra, da tectônica de placas e da repartição das massas continentais.

- 01) Levando-se em conta a antiga teoria da deriva dos continentes e a teoria mais atual, da tectônica de placas, o bloco continental que hoje corresponde a uma grande parte da Índia deslocou-se para o norte até chocar-se com o bloco asiático, dando origem ao sistema montanhoso do Himalaia.
- 02) Segundo a teoria da tectônica de placas, o antigo continente de Gondwana englobava o conjunto das terras que hoje pertencem às três Américas e à África. Já o antigo continente da Laurásia abrigava as terras que pertencem hoje à Europa, à Ásia, à Austrália e à Groenlândia.
- 04) As dorsais oceânicas correspondem a imensos alinhamentos do relevo submarino, formando verdadeiras cordilheiras submersas, com milhares de quilômetros de extensão.
- 08) A zona de contato entre as placas é instável, com grande incidência de fenômenos como o vulcanismo e os terremotos.
- 16) A falha de Santo André (ou San Andreas), na Califórnia, localiza-se no contato de duas placas tectônicas: a placa Norte-Americana e a placa Pacífica. A área atingida por esse falhamento é sujeita à ocorrência de terremotos.

09 – Assinale o que for correto sobre as divisões regionais do espaço brasileiro.

- 01) A divisão oficial do IBGE baseia-se em critérios político-administrativos, estabelecendo limites regionais que desconsideram, em muitos casos, as características geoeconômicas do território brasileiro. Um exemplo disso é o fato de todo o estado de Minas Gerais estar incluído dentro da região Sudeste, embora o norte desse estado tenha características geográficas muito mais associadas à porção semi-árida da região Nordeste do Brasil.
- 02) A área definida, para fins de planejamento, como sendo a Amazônia Legal brasileira constitui-se em um complexo regional que extrapola o território definido, tradicionalmente, pelo IBGE, como região Norte. A Amazônia Legal inclui, por exemplo, parte do Mato Grosso, dentre outras áreas não pertencentes à região Norte.
- 04) Na divisão regional do IBGE, cujos limites coincidem, necessariamente, com as divisas estaduais, o estado do Tocantins, desmembrado de Goiás e do Distrito Federal, pertence à região Centro-Oeste.

08) A divisão do Brasil em três grandes complexos regionais - Amazônia, Nordeste e Centro-Sul - baseia-se principalmente em critérios geoeconômicos, em detrimento dos aspectos físico-naturais do espaço brasileiro. Assim, parte do Centro-Oeste, dos estados do Sudeste e os três estados do Sul, conforme a divisão tradicional do IBGE, compõem um único complexo regional, denominado Centro-Sul.

16) A megalópole Rio-São Paulo, os complexos industriais tecnologicamente mais desenvolvidos e os portos de maior circulação internacional localizam-se na região Centro-Sul.

10 – Assinale o que for correto sobre o quadro natural do Brasil.

- 01) Rondônia, Amapá e Pará apresentam, respectivamente, importantes jazidas de bauxita, manganês e ouro, situadas nos terrenos sedimentares da planície Amazônica.
- 02) O planalto Meridional é um compartimento do planalto Brasileiro. Nele aparecem, em áreas que sofreram derrames basálticos, os férteis solos conhecidos por "terra-roxa".
- 04) A floresta Atlântica apresenta-se muito densa e variada em espécies nas encostas escarpadas da serra do Mar voltadas para o oceano Atlântico, onde a pluviosidade é abundante.
- 08) As matas-de-galeria aparecem nos vales, acompanhando os cursos d'água que fornecem a umidade necessária a essas formações florestais.
- 16) A Campanha Gaúcha apresenta uma vegetação típica de pradarias. Os solos profundos e argilosos, pouco sujeitos à erosão, contribuem para manter a área livre dos processos de degradação.
- 32) O sertão nordestino apresenta altas temperaturas e chuvas escassas, devido à influência das serras do Araripe e da Borborema, que barram a penetração da umidade vinda do Meio-Norte.

- 11 – Assinale o que for correto sobre as grandes unidades zonais e os hemisférios da Terra, recorrendo à tabela, quando solicitado.

TEMPERATURAS MÉDIAS ANUAIS EM CIDADES BRASILEIRAS SITUADAS AO NÍVEL DO MAR

Cidade	Latitude	Média térmica anual
Belém	1° 28' S	25,9° C
Porto Alegre	31° 01' S	20,1° C
Salvador	12° 55' S	25, 5° C
Vitória	20° 19' S	24,4° C

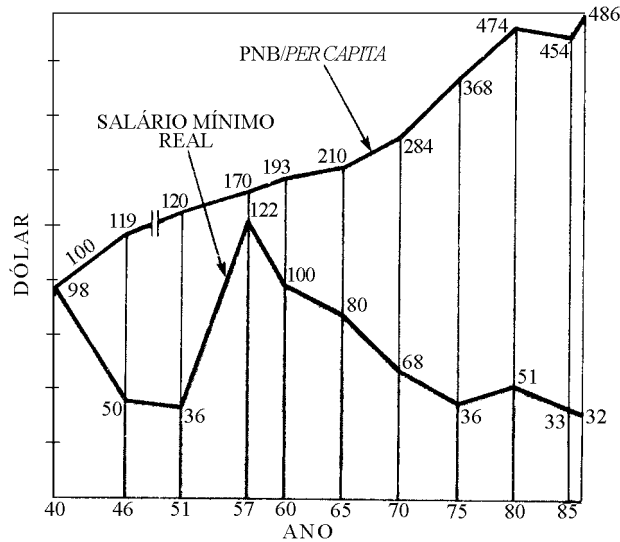
(Anuário Estatístico do Brasil, 1995)

- 01) O hemisfério Sul abriga a maior parte das terras de clima tropical graças à insolação mais intensa e prolongada, no decorrer do ano, que incide sobre as áreas situadas ao sul do Equador.
- 02) Na área compreendida entre o Trópico de Câncer e o Círculo Polar Ártico, no hemisfério Norte, levando-se em conta apenas o aspecto do clima zonal, as temperaturas tornam-se progressivamente mais frias, de sul para norte.
- 04) A latitude corresponde à distância em graus de qualquer ponto da superfície da Terra ao Equador. Varia de 0° (zero grau) na linha equatorial a 180° (cento e oitenta graus) nos pólos Norte e Sul.
- 08) O meridiano de Greenwich, convencionalmente chamado de meridiano inicial, divide o planeta em dois hemisférios: o hemisfério Oriental e o hemisfério Ocidental.
- 16) O Brasil está inteiramente compreendido nos hemisférios Ocidental e Meridional.
- 32) Como a Terra gira de leste para oeste, o amanhecer acontece antes na costa leste brasileira do que no oeste da Amazônia.
- 64) A tabela acima mostra que as diferenças de temperatura entre as cidades brasileiras citadas ocorrem como consequência das diferenças de latitude, evidenciando que a média anual de temperatura tende a ser mais baixa, conforme nos afastamos do Equador.

- 12 – Assinale a(s) alternativa(s) correta(s) a respeito das atividades primárias da economia.

- 01) A cultura da soja, no Brasil, atende principalmente ao mercado interno, para produção de óleos e rações. Esse cultivo absorveu grande parte da mão-de-obra liberada pela cultura do café, abrindo boas perspectivas de emprego nas fábricas de alimentos instaladas nas cidades.
- 02) Apesar da constante elevação no preço do café no mercado internacional, na década de 70, esse cultivo retraiu-se, nos estados de São Paulo e Paraná. As fortes geadas foram a principal causa da substituição da cultura cafeeira pelos cultivos de soja, de trigo e de cana-de-açúcar, que apresentam, além de tudo, uma elevada rentabilidade para o agricultor.
- 04) O solo genericamente denominado "terra-roxa", presente no norte do Paraná, propiciou o cultivo do café, que teve grande importância no processo de ocupação da região.
- 08) No Paraná, os municípios de Cascavel, Telêmaco Borba e Castro destacam-se, respectivamente, pelas atividades de plantio do trigo, reflorestamento e produção leiteira.
- 16) O MST é um movimento que conta, na sua organização, com trabalhadores rurais que pressionam o governo para a efetivação da reforma agrária. Com a ocupação de terras em todas as regiões do Brasil, esse movimento tem hoje projeção nacional.

13 – Dentre as alternativas a seguir, assinale aquela(s) que constitui(em) conclusão(ões) acertada(s), a partir da leitura e da análise do gráfico e da tabela.



DISTRIBUIÇÃO RELATIVA DA POPULAÇÃO ECONOMICAMENTE ATIVA, SEGUNDO GRUPOS DE RENDIMENTO MENSAL – 1985

GRUPOS DE RENDIMENTO MENSAL	1985
Até 1 salário mínimo	35,88
1 até 2 salários mínimos	25,02
2 até 5 salários mínimos	24,32
5 até 10 salários mínimos	9,20
10 e mais salários mínimos	5,58
TOTAL	100,00

- 01) O crescimento da renda *per capita* e do salário mínimo evidenciam que após o ano de 1957, houve melhoria na distribuição de renda no Brasil.
- 02) A comparação das porcentagens correspondentes àqueles que ganham dez ou mais salários mínimos e daqueles que ganham menos de um salário mínimo mostra que poucos ganham muito e muitos ganham pouco.
- 04) Embora a renda *per capita* tenha tido um crescimento considerável, pode-se supor que não houve uma real melhoria das condições de vida para a população que vive com o salário mínimo, pois seu valor em dólares, embora com oscilações, tendeu a um declínio.
- 08) A tabela mostra uma realidade do ano de 1985, que contradiz os dados do gráfico no mesmo ano.
- 16) O ano de 1957 foi aquele em que o salário mínimo teve valor real maior, entre as décadas de 40 e 80.
- 32) É difícil perceber a relação entre o PNB *per capita* e o salário mínimo porque a tabela só mostra dados de 1985.
- 64) A partir de 1985, o gráfico aponta uma tendência de distanciamento crescente entre a renda *per capita* e o valor do salário mínimo. No caso, o valor em dólares da renda *per capita* tende a crescer, mas o valor em dólares do salário mínimo tende a diminuir.

14 – Assinale a(s) alternativa(s) correta(s) sobre a atividade industrial.

- 01) O Japão prioriza as indústrias de ponta, poupadoras de energia e de mão-de-obra. A micro-eletrônica e a informática ganharam impulso, em detrimento da siderurgia. A indústria mecânica, porém, é importante, destacando-se a produção de automóveis, em fábricas com altos níveis de automação e robotização.
- 02) No vale do Ruhr, em território alemão, a proximidade entre os centros urbanos e a intensidade dos fluxos estabelecidos entre essas cidades criou uma vasta área urbanizada. Essa zona urbanizada apresenta muitas cidades de grande importância econômica nacional ou mundial, constituindo-se em uma zona metropolitana polinucleada.
- 04) Dentre os países de industrialização tardia, encontram-se o Brasil, a Argentina e a África do Sul. Nos dois primeiros, o processo dependeu, fundamentalmente, das políticas européias nas antigas metrópoles - Portugal e Espanha, respectivamente. Já na África do Sul, o processo de industrialização esteve ligado à expansão norte-americana no continente africano.
- 08) A industrialização planejada, cujo principal exemplo foi o da União Soviética, volta a ser uma tendência mundial. O estabelecimento dos planos trienais dos países conhecidos pelo nome de Tigres Asiáticos é um exemplo desse fato.
- 16) A sociedade pós-industrial caracteriza-se por uma retração da indústria e do setor terciário e por um retorno às atividades primárias. A reocupação dos campos, o crescimento do turismo rural e das atividades de lazer são características da era pós-industrial.
- 32) Na China, a atividade industrial vem se expandindo desde a década de 80. A abertura para uma economia de mercado e os investimentos estrangeiros são fatores que influíram na expansão verificada.
- 64) As principais áreas industriais do planeta localizam-se na América do Norte, na Europa e na Ásia, em terras do hemisfério Norte. No hemisfério Sul, a indústria tem destaque, por exemplo, no Brasil, na Argentina, na África do Sul e na Austrália, mas apresenta menor magnitude do que nos grandes centros do hemisfério Norte.

15 – Sobre a população mundial, assinale o que for correto.

- 01) As altas taxas de mortalidade infantil observadas nos países menos desenvolvidos devem-se, principalmente, à falta de controle sanitário das principais epidemias como a varíola, o sarampo e a leptospirose. A subnutrição é apenas um fator secundário.
- 02) O crescimento natural ou vegetativo corresponde à diferença entre a taxa de natalidade e a taxa de mortalidade de uma população num certo período de tempo.
- 04) A velocidade de crescimento da população é geralmente mais lenta nos países industrializados e mais acelerada nos países menos desenvolvidos. Como consequência, a população cresce mais onde há mais pobreza.
- 08) De uma maneira geral, a África Branca, como é chamada a porção norte do continente, apresenta alta representatividade de muçulmanos, que praticam a religião islâmica. A África Negra, porção situada, a grosso modo, ao sul do deserto do Saara, possui grande diversidade de povos, idiomas e religiões.
- 16) Na China, as famílias com mais de um filho passaram a ser tributadas pelo Estado, por excesso de contingente familiar. Essa política visava o controle do crescimento populacional.

HISTÓRIA

16 – Os séculos XV e XVI foram um período de grandes transformações. Entre os principais acontecimentos dessa época, destacam-se o Renascimento, no campo da cultura e das ciências, e a Reforma Religiosa. A respeito desses acontecimentos, assinale o que for correto.

- 01) O Renascimento foi um movimento exclusivamente artístico que contestava as formas de representação pictóricas do período feudal. Entre os seus maiores expoentes, destaca-se Leonardo da Vinci, que pintou a “Gioconda” e o teto da Capela Sistina.
- 02) Uma característica marcante do Renascimento foi a emergência de uma nova época, que se distinguia do mundo medieval. Assim sendo, os renascentistas contrapunham o antropocentrismo ao teocentrismo e, em oposição à tradição, propunham o racionalismo como a forma de obtenção do conhecimento científico.
- 04) O crescimento do comércio, o desenvolvimento urbano e o fortalecimento da burguesia contribuíram tanto para o desenvolvimento do Renascimento quanto da Reforma.
- 08) O rompimento com a tradição e a valorização da razão possibilitaram, naquele período, um desenvolvimento científico que procurou explicar o mundo através de novas teorias, fugindo às explicações religiosas que predominavam até então.
- 16) A Reforma teve um caráter eminentemente conservador, na medida em que disseminava idéias que combatiam as transformações que estavam ocorrendo na sociedade e no comportamento dos homens, na Europa Ocidental, no início da época moderna. Entre as atividades combatidas pela Reforma, destacam-se o comércio e a atividade bancária.
- 32) Com o avanço das religiões reformadas, a Igreja Católica iniciou a Contra-Reforma, que visava introduzir na Igreja Romana as principais inovações preconizadas pelos “protestantes”.
- 64) Embora a Reforma tenha sido um movimento religioso, os seus desdobramentos extrapolam o terreno da religião e refletem-se em outros aspectos da vida do homem ocidental.

17 – O Iluminismo foi um movimento intelectual com origens na Inglaterra no século XVII, mas teve maior desenvolvimento na França, no século XVIII. A seu respeito, assinale o que for correto.

- 01) Os pensadores iluministas criticavam as instituições do Antigo Regime e propagavam os ideais liberais burgueses refletindo as transformações pelas quais passava a sociedade européia.
- 02) O liberalismo econômico, que surgiu no mesmo contexto histórico, vinculando-se ideologicamente ao Iluminismo, combatia o mercantilismo e defendia a propriedade privada, a livre concorrência e o livre cambismo.
- 04) As chamadas revoluções burguesas, na Inglaterra no século XVII e na França em 1789, que colocaram fim ao Antigo Regime e contribuíram decisivamente para a consolidação do capitalismo, fazem parte do mesmo processo histórico que gerou o Iluminismo.
- 08) Por ser, na época do Iluminismo, colônia de Portugal, o Brasil não sofreu influências dos ideais da ilustração e das revoluções burguesas.
- 16) O rei francês Luís XIV, a quem é atribuída a frase “o Estado sou eu”, foi também um dos maiores pensadores iluministas.

18 – As disputas imperialistas e as tensões associadas aos conflitos nacionalistas foram fatores importantes na emergência da I Guerra Mundial, ocorrida entre 1914 e 1918. Sobre esse tema, assinale o que for correto.

- 01) Essa guerra caracterizou-se pela extrema violência dos combates, provocando milhões de mortes, tanto entre militares combatentes, quanto entre a população civil.
- 02) A guerra de trincheiras foi intensamente utilizada durante esse conflito bélico.
- 04) Os EUA, em decorrência de sua política isolacionista e de sua conseqüente recusa em se envolver nas questões européias, mantiveram-se fora desse conflito de proporções mundiais, atuando apenas como árbitro nas negociações ocorridas ao final da guerra.
- 08) A Rússia participou dessa guerra, combatendo ao lado da Alemanha e do Império Austro-Húngaro.
- 16) Os efeitos da guerra intensificaram os conflitos sociais na Rússia, contribuindo para a derrubada do Czar Nicolau II, ocorrida no início de 1917, e para a eclosão da Revolução Bolchevique, em outubro do mesmo ano.

19 – O período entre-guerras foi marcado por profundas crises, pela instabilidade social e pela emergência de movimentos autoritários na Europa. Sobre esse período, assinale o que for correto.

- 01) Na esteira da Revolução Russa, foi fundada a Internacional Comunista, com o objetivo de expandir o movimento revolucionário para outras regiões do planeta.
- 02) O Partido Fascista Italiano foi fundado em 1919, em meio à profunda crise econômica e política advinda da participação do País na I Guerra Mundial.
- 04) O descontentamento popular com as imposições do Tratado de Versalhes, a crise econômico-social e o desemprego em massa foram alguns dos fatores mais importantes na emergência do nacional-socialismo alemão.
- 08) Na Espanha, ocorreu a guerra civil (1936-1939), em decorrência de um golpe militar liderado pelo general Francisco Franco. Durante o conflito, Franco recebeu o apoio da Alemanha e da Itália.
- 16) Em 1938, foi firmado o Pacto de Munique. Através desse acordo, envolvendo a Alemanha, a Inglaterra e a França, os Sudetos tchecos foram entregues aos alemães. O restante da Tchecoslováquia foi ocupado em março de 1939.
- 32) Em maio de 1939, a Alemanha ocupou e anexou a Hungria ao seu território.
- 64) Em agosto de 1939, foi firmado um pacto envolvendo a Alemanha e a URSS, que se tornou conhecido como Pacto Germano-Soviético ou Pacto Molotov-Ribbentrop.

20 – Uma das maiores marcas deixadas pelos paulistas na história do Brasil foram as bandeiras do século XVII. A respeito das entradas e bandeiras, assinale o que for correto.

- 01) Embora tenham sido organizadas com o objetivo de descobrir novos territórios e de alargar as fronteiras do Brasil, as bandeiras não permitiam a participação de mulheres. Essa proibição de participação feminina acabou dificultando a ocupação efetiva dos novos territórios, pois os bandeirantes se recusavam a abandonar suas famílias em São Paulo de Piratininga.
- 02) As bandeiras eram expedições que reuniam um grande número de participantes - índios e brancos - que se lançavam pelo sertão, onde passavam meses e, às vezes, até anos, em busca de metais preciosos e de índios para serem escravizados.

04) Um dos fatores que mais colaboraram para o sucesso das bandeiras foi o apoio da Igreja Católica, que era favorável ao aprisionamento e à escravização dos índios por parte dos bandeirantes.

08) As missões jesuítas do Guairá, região situada no estado do Paraná, entre os rios Paranapanema e Iguazu, foram alvo de seguidas expedições dos bandeirantes, que destruíam e saqueavam as missões e escravizavam os índios que estavam sendo catequizados pelos jesuítas.

16) Os bandeirantes foram responsáveis pelo alargamento das fronteiras e pela interiorização da colonização do Brasil, com a descoberta de ouro nas regiões onde hoje estão localizados parte dos estados de Goiás, Minas Gerais e Mato Grosso.

21 – A II Guerra Mundial teve o seu início em setembro de 1939, quando tropas alemãs invadiram o território polonês. Sobre esse conflito mundial, assinale o que for correto.

01) Em 1º de setembro de 1939, as forças alemãs cruzaram a fronteira polonesa e, em poucos dias, desmantelaram as forças de defesa do País, conquistando boa parte daquele território.

02) A 3 de setembro de 1939, a Inglaterra e a França declararam guerra à Alemanha.

04) Em junho de 1941, tropas soviéticas invadiram parte do território alemão. Contudo, os invasores foram rapidamente derrotados.

08) A primeira grande derrota alemã ocorreu na batalha de Stalingrado, quando os soviéticos destroçaram as forças invasoras e iniciaram uma vigorosa contra-ofensiva, marchando sobre a Europa Oriental.

16) Os EUA declararam guerra ao Japão, após o ataque nipônico à base norte-americana de Pearl Harbor, em 7 de dezembro de 1941.

32) Em maio de 1945, ocorreu a rendição incondicional da Alemanha às forças aliadas. No entanto, a guerra continuou no Pacífico. O Japão somente se rendeu após as explosões das bombas atômicas norte-americanas, sobre Hiroxima e Nagazaqui, em agosto daquele ano.

22 – “O período compreendido entre 1440 e 1600 foi (...) uma época de reconhecimento e exploração dos oceanos, de abertura de novas rotas comerciais e de início dos impérios ultramarinos.” (ARNOLD, David. **A época dos Descobrimentos**. Lisboa: Gradiva, s/d, p.76).

Com relação à expansão marítima do início dos tempos modernos, assinale o que for correto.

- 01) A colonização portuguesa do Brasil, um dos resultados da expansão ultramarina, levou à organização da produção açucareira com a utilização do trabalho escravo do índio e do negro africano.
- 02) Partindo em busca do Oriente, navegando para o Ocidente, Cristóvão Colombo possibilitou à Coroa da Espanha a posse de territórios americanos ricos em metais preciosos.
- 04) A expansão marítima possibilitou a colonização europeia das Américas. Um dos resultados dessa colonização foi o choque ocorrido entre o europeu e as populações nativas. Esse confronto levou, quase sempre, à dizimação dos nativos, tanto nas regiões de colonização inglesa, quanto nas regiões de colonização ibérica.
- 08) A colonização inglesa da América do Norte foi muito semelhante à colonização ibérica. A região Sul dos Estados Unidos foi colonizada da mesma maneira que a região Nordeste do Brasil. Era caracterizada pela pequena propriedade familiar e pela policultura. Já a colonização das “treze colônias” mais ao norte teve como principal atividade econômica a mineração e espelhou-se na colonização espanhola do México e do Peru.
- 16) A expansão marítima permitiu a formação de domínios coloniais que dinamizaram o comércio europeu e o deslocamento do eixo comercial do mar Mediterrâneo para o oceano Atlântico, com a incorporação da África e das Américas ao comércio europeu.



23 – A escravidão constitui-se em um dos elementos básicos sobre os quais foi organizada a sociedade no Brasil Colônia. A respeito dessa relação social, assinale o que for correto.

- 01) Os quilombos surgiram por toda parte onde existiu a escravidão no Brasil e foram uma das formas mais importantes de resistência dos negros à escravidão.
- 02) Ao mesmo tempo em que criava obstáculos à escravidão do índio, a Igreja não se opunha à escravidão do africano, no Brasil.
- 04) Entre os escravos que trabalhavam na mineração, sobretudo na região de Cuiabá, por estar mais isolada, e nos núcleos urbanos, a ociosidade e a licenciosidade predominavam.
- 08) No século XIX, uma série de fatores contribuíram para o fim da escravidão no Brasil, dentre os quais se destacam a pressão inglesa e o crescimento do movimento abolicionista.
- 16) Embora a escravidão do negro africano prevalecesse nas Antilhas e em algumas regiões continentais litorâneas da América Central e da América do Sul, diferentemente do Brasil, a mão-de-obra fundamental da colonização espanhola na América foi a indígena.



24 – Em 1695, no interior de Minas Gerais, ocorreram as primeiras descobertas significativas de ouro no Brasil. A atividade mineradora teve, ao longo do século XVIII, efeitos que não se restringiram ao Brasil e a Portugal. A respeito da mineração no século XVIII, assinale o que for correto.

- 01) A mineração conduziu à recuperação econômica da Colônia e acabou com a fome endêmica, pois possibilitou os recursos necessários para a importação dos alimentos que não eram produzidos no Brasil.
- 02) Diferentemente do que ocorria até então em outras regiões do Brasil, a vida social na região mineira concentrou-se nas cidades, centros de residência, de negócios e de festas comemorativas. A vida urbana, por sua vez, possibilitou o surgimento de notáveis manifestações artístico-culturais.
- 04) Com a descoberta de ouro, gente dos mais diferentes locais e de diferentes condições sociais afluiu para a região das minas.
- 08) Estudos historiográficos elaborados sobretudo nos últimos vinte anos mostram que a riqueza produzida pela atividade mineradora era privilégio de poucos. A ampla maioria da população mineira livre foi constituída de gente pobre, pequenos funcionários e comerciantes com poucos recursos econômicos.
- 16) A guerra dos emboabas (1610-1623) foi resultado do conflito entre os paulistas, que pretendiam o monopólio da exploração aurífera, e os índios que habitavam a região mineira.
- 32) De forma distinta do que ocorreu no Brasil, a exploração de metais preciosos realizada pelos espanhóis no México e no Peru utilizou, predominantemente, a mão-de-obra dos índios que, embora fossem submetidos a extensas jornadas e péssimas condições de vida, não foram escravizados.



25 – Eric Hobsbawm denominou o período que vai de 1789 a 1848 como a "Era das Revoluções". Sobre esse período histórico, assinale o que for correto.

- 01) A França revolucionária experimentou um intenso período de violência social, principalmente entre 1793 e 1794. Essa fase da revolução ficou conhecida como o período do terror ou, simplesmente, como o terror.
- 02) Na Inglaterra, a experiência revolucionária foi uma consequência do processo histórico francês. Essa revolução, ocorrida nos primeiros anos do século XIX (1801-1812), ficou conhecida como a Revolução Gloriosa.

04) Com a derrota da França napoleônica, as forças conservadoras se reuniram em Viena, em 1815, objetivando restaurar a ordem pré-revolucionária.

08) O movimento cartista constituiu-se em uma grande agitação social ocorrida na Inglaterra, entre meados da década de 1830 e o final da década seguinte. Dentre as principais reivindicações desse movimento, podem ser destacados o direito ao voto universal masculino, a abolição do voto sensitário para a Câmara dos Comuns e a remuneração dos deputados, para que os representantes dos trabalhadores pudessem participar do parlamento.

16) Em 1848, a Europa foi varrida por uma nova onda revolucionária que atingiu a França, a Alemanha e o Império Austro-Húngaro, entre outros.

32) Na Rússia, em 1848, ocorreram violentos combates, principalmente nas ruas de São Petersburgo. Em decorrência desses conflitos, Pedro, o Grande, objetivando acabar com os distúrbios, decretou o fim da servidão em todo o Império.



26 – A Nicarágua, país localizado na América Central, experimentou intensos conflitos sociais em sua história recente. Sobre esse país, assinale o que for correto.

01) Entre 1927 e 1934, os EUA intervieram no território nicaraguense, objetivando sufocar o movimento guerrilheiro liderado por Augusto César Sandino.

02) O País, desde a década de 30, passou a ser governado, durante cinco décadas, por sucessivos governos comandados pela família Somoza, ligados aos interesses norte-americanos.

04) Em 1979, após um intenso conflito civil, o movimento sandinista derrubou a ditadura de Anastácio Somoza.

08) Os EUA passaram a armar e a treinar as forças anti-sandinistas e a pressionar economicamente o País. Os efeitos da guerra civil e da ação norte-americana levaram à desorganização da economia e, conseqüentemente, ao enfraquecimento do governo sandinista.

16) Daniel Ortega (sandinista), mesmo sendo derrotado nas eleições de 1990, recusou-se a sair do poder, o que deu início a uma nova guerra civil, que somente teve fim em 1991, com a mediação de Mikhail Gorbachev.



27 – Em março de 1964, os militares depuseram o presidente João Goulart e instituíram no País um regime ditatorial. Sobre esse período da história brasileira, assinale o que for correto.

- 01) Os presidentes militares foram, respectivamente, os marechais Humberto de Alencar Castelo Branco e Artur da Costa e Silva, e os generais Emílio Garrastazu Médici, Ernesto Geisel e João Batista de Oliveira Figueiredo.
- 02) Dentre as primeiras medidas adotadas pelos militares após o golpe, podem ser citadas a cassação e a suspensão dos direitos políticos de centenas de pessoas e a abertura de milhares de inquéritos.
- 04) Em 1968, foi promulgado o Ato Institucional nº 5 (AI-5), que concedeu ao governo poderes para fechar o Congresso Nacional, as Assembléias Legislativas e as Câmaras Municipais; para decretar a intervenção em estados e municípios; para cassar mandatos e suspender direitos políticos; para decretar estado de sítio e confiscar bens.
- 08) Durante a presidência do general Médici (1969-1974), a ditadura tornou-se ainda mais atroz. Nesse período, intensificaram-se a tortura, os assassinatos dos opositores e a repressão a qualquer tentativa de reorganização da sociedade civil.
- 16) A partir de meados da década de 1970, a reorganização dos movimentos populares e a intensificação das lutas sociais impuseram aos ditadores o desenvolvimento de uma abertura política lenta e gradual.
- 32) Em 1979, após uma ampla campanha de agitação popular, foi aprovado o projeto de anistia. A anistia não era ampla, geral e irrestrita, conforme a exigência das mobilizações populares. No entanto, foi um passo importante na democratização do País.
- 64) Outra grande mobilização popular ocorrida durante o período militar foi a campanha pelas "Diretas já". Do final de 1985 até meados de 1987, o povo foi às ruas, aos milhares e, em alguns casos, houve manifestações que, segundo o noticiário, aglutinaram mais de um milhão de pessoas. Em decorrência dessa pressão popular, foi aprovada a emenda Dante de Oliveira, prevendo a realização de eleições diretas para presidente da república, o que propiciou a realização do pleito presidencial de 1989.



28 – "Assim como na Colônia e no Império, mais de um século após a proclamação da República o modelo político-econômico brasileiro continua extremamente concentrador da propriedade da terra e da renda. Excluída da participação na riqueza social, a grande maioria da população se vê relegada a condições muito precárias de trabalho, alimentação, moradia, saúde e educação." (PILETTI, N. **História do Brasil**. S. Paulo: Ática, 1996, p. 347)

Sobre a questão social no Brasil contemporâneo, assinale o que for correto.

- 01) O Brasil possui uma estrutura agrária baseada na concentração da propriedade agrícola nas mãos de poucos.
- 02) O Movimento dos Trabalhadores Rurais sem Terra (MST) tem como bandeira a luta por uma reforma agrária que garanta a posse da terra e melhores condições de trabalho e de vida para os trabalhadores rurais sem terra.
- 04) Uma das estratégias mais frequentes do MST tem sido a ocupação de terras consideradas improdutivas.
- 08) Nas cidades, o modelo de distribuição de renda também é extremamente injusto. Essa situação provocou a expansão de favelas e outras formas de habitações precárias.
- 16) No início da década de 1990, havia a demanda por mais de 10 milhões de habitações no País, indicando uma média de aproximadamente cinquenta milhões de pessoas vivendo em habitações precárias e, destas, uma parcela significativa vivia perambulando pelas ruas, sem casa para morar.
- 32) Se os conflitos sociais ainda estão bastante presentes no campo, nas cidades eles entraram em um vertiginoso processo de refluxo a partir do início dos anos noventa. Isso se deu em decorrência de uma vigorosa política de investimentos na solução dos problemas de habitação e saneamento. Como consequência, o número de favelados decresceu em cerca de vinte por cento em cidades como Recife, Fortaleza, São Paulo e Rio de Janeiro, somente entre os anos de 1991 e 1994.



29 – "O juiz do condado de Broughton, presidindo uma reunião na prefeitura de Nottingham, em 14 de janeiro de 1860, declarou que naquela parte da população empregada nas fábricas de renda da cidade, reinavam sofrimentos e privações em grau desconhecido no resto do mundo civilizado... Às duas, três e quatro horas da manhã, as crianças de 9 e 10 anos são arrancadas de camas imundas e obrigadas a trabalhar até às 10, 11 ou 12 horas da noite, para ganhar o indispensável à mera subsistência. Com isso, seus membros definham, sua estatura se atrofia, suas faces se tornam lívidas... O sistema, como o descreveu o reverendo Montagu Valpy, constitui uma escravidão em sentido social, físico, moral e intelectual... Protestamos contra os senhores de escravos da Virgínia e da Carolina. Mas o mercado negreiro, com os horrores do látigo e do tráfico de carne humana é por acaso mais ignóbil do que esta lenta imolação dos seres humanos, praticada a fim de se produzirem véus e golas para maior lucro dos capitalistas?" (*Dayly Telegraph*, Londres, 17 de janeiro de 1860. *Apud*: FARIA, R de M.; MARQUES, A.M.; BERUTTI, F.C. **História**. Belo Horizonte: Ed. Lê, 1989, vol. 3, p.146-147).

O texto reproduzido acima faz referência tanto à situação dos trabalhadores fabris na Inglaterra do século XIX quanto à dos escravos na América. A respeito da Revolução Industrial, assinale o que for correto.

- 01) Por submeter os escravos a condições de vida semelhantes às observadas nas fábricas inglesas, as colônias americanas também conseguiram realizar a Revolução Industrial. No Brasil, os grandes responsáveis pela industrialização foram o Barão de Mauá, um dos grandes empresários brasileiros do século XIX, e o Visconde de Rio Branco.
- 02) As desumanas condições de trabalho e o trabalho infantil se restringiam, na Inglaterra da Revolução Industrial, às fábricas de rendas descritas no texto citado acima.
- 04) Os problemas sociais originados na Revolução Industrial, tais como a ruína dos artesãos e a proletarização dos trabalhadores, possibilitaram o surgimento de novas teorias sociais, com destaque para o Socialismo.
- 08) Os efeitos da Revolução Industrial foram extraordinários, refletindo-se em todos os aspectos da vida humana. Entre os seus principais resultados, podemos citar o desenvolvimento da produção em massa, uma grande divisão do trabalho e um grande crescimento, tanto demográfico quanto urbano.
- 16) A Inglaterra foi o país pioneiro na industrialização. Somente no decorrer do século XIX outros países iriam se industrializar.

32) A existência do trabalhador expropriado, sem condições de garantir a sua subsistência e que passa a ser obrigado a vender a sua força de trabalho, ao lado de uma prévia acumulação de capital, foram condições básicas que possibilitaram a Revolução Industrial.



30 – Após a queda do muro de Berlim e a desagregação do chamado mundo soviético, o mundo experimentou profundas transformações, que modificaram significativamente a face do planeta. Sobre esse período, assinale o que for correto.

- 01) Com o fim da Guerra Fria, o mundo experimentou, na década de 1990, um período de relativa paz, reduzindo-se os conflitos diplomáticos e as guerras entre as nações.
- 02) Em decorrência da nova ordem mundial, os EUA promoveram profundos cortes em seus orçamentos militares. Esses recursos foram redirecionados, principalmente, aos setores de saúde, educação pública e habitação popular.
- 04) Em decorrência da globalização, os países da Comunidade Européia e os Estados Unidos abriram os seus mercados de trabalho aos imigrantes do terceiro mundo.
- 08) Uma das características do mundo contemporâneo é o surgimento de blocos econômicos regionais, através da associação de países, instituindo o livre mercado regional, e através da derrubada de antigas barreiras protecionistas.
- 16) Em decorrência dos processos ligados à chamada globalização e à reestruturação produtiva, houve a intensificação do fenômeno do desemprego. Segundo dados da Organização Internacional do Trabalho (OIT), em 1994, 30% da população economicamente ativa do mundo estava desempregada ou subempregada. De acordo com os mesmos dados, essa seria a pior crise de desemprego mundial desde a grande depressão que se sucedeu à crise de 1929.
- 32) Com o fim do regime comunista, apesar da crise política experimentada pela ex-URSS, os dados relativos ao desenvolvimento humano publicados pela ONU, em 1999, indicam uma sensível melhora no padrão e na expectativa de vida naquela região do planeta. Contudo, esse relatório indica que as regiões em que eclodiram conflitos regionais não conseguiram acompanhar esse ritmo de desenvolvimento econômico-social, possuindo, portanto, piores indicadores sociais.

